



-0-

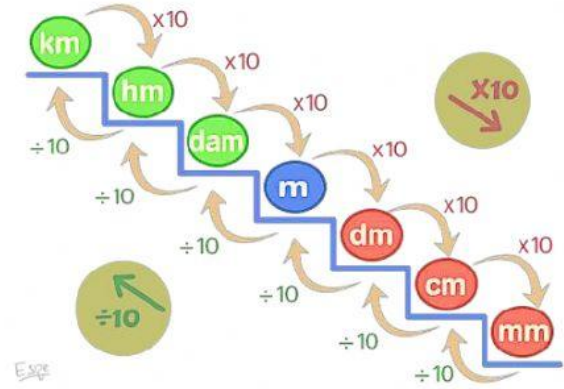
# Evaluación

## 4° bimestre

### GEOMETRÍA 5



1. Completa la siguiente tabla, recuerda emplear la escalera de unidades de longitud para hallar de manera más ágil la respuesta



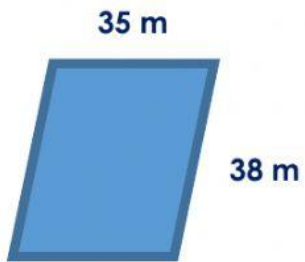
CONVIERTE	EN
3 dm	cm
6 km	dm
4 Dam	cm
800 mm	cm
2 Hm	dam
400 m	dam




2. Responde si es falso o verdadero

- Cuando se halla el perímetro de una figura se mide el interior de esta \_\_\_\_\_
- El perímetro de una figura solo se da en metros \_\_\_\_\_
- Dentro de las unidades de medida (longitud) podemos decir que el kilómetro es la mayor unidad \_\_\_\_\_
- El pelo de Helena medía 7 decímetros de longitud, pero ayer se lo cortó 40 centímetros, ahora el pelo de Helena mide 300 milímetros \_\_\_\_\_

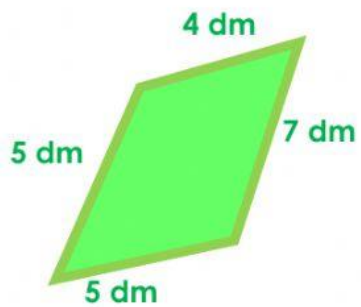
3. Halla el perímetro de las siguientes figuras y escríbelo en el recuadro que se encuentra frente a ella



m



cm



dm