



I TRIANGOLI



1) Completa la frase con le parole mancanti

Un triangolo è un _____ con 3 _____ e 3 _____.

RICORDA! I triangoli possono essere classificati in base alla LUNGHEZZA DEI LATI

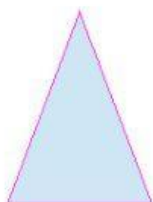
2) Scegli l'alternativa corretta.

Un triangolo che ha tutti i lati diversi si chiama

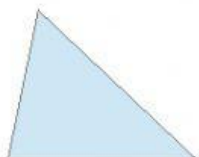
Un triangolo che ha tutti i lati uguali si chiama

Un triangolo che ha due lati uguali si chiama

3) Collega le figure al nome corrispondente:



SCALENO



ISOSCELE




EQUILATERO

RICORDA! I triangoli possono essere classificati anche in base all'AMPIEZZA DEGLI ANGOLI

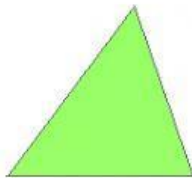
3) Scegli l'alternativa corretta.

- Un triangolo che ha tutti gli angoli acuti si chiama
- Un triangolo che ha un angolo retto si chiama
- Un triangolo che ha un angolo ottuso si chiama


4) Collega le figure al nome corrispondente:



ACUTANGOLO



RETTANGOLO



OTTUSANGOLO