

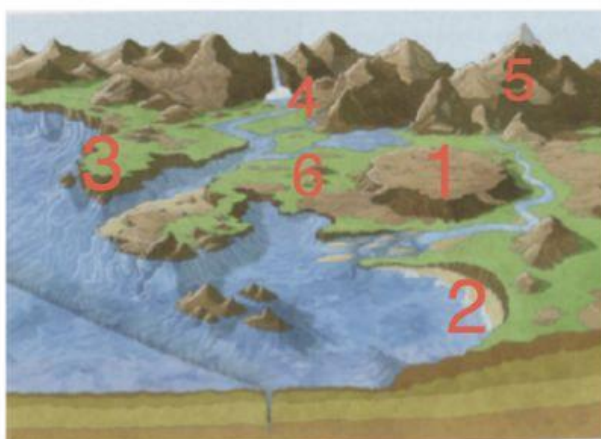
## REPASO TEMA 1: EL RELIEVE.

1. Define: ¿Qué es el Relieve? Tienes ayuda en este video

2. Une con flechas:

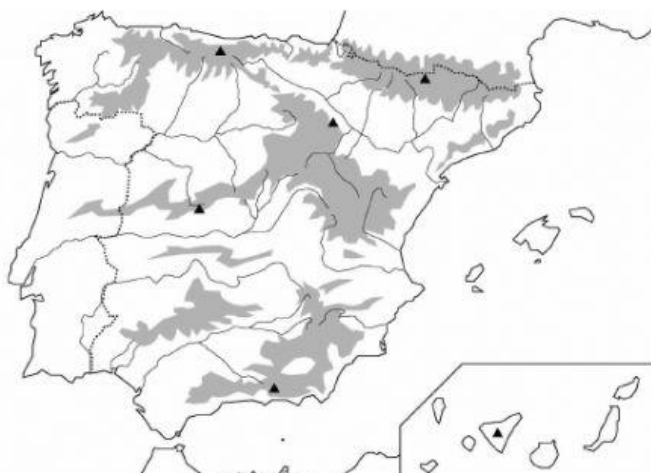
Meseta	Zona llana más o menos a la misma altura del mar
Llanura	Tierra rodeada de agua por todas partes menos por una
Valle	Zona hundida entre montañas
Península	Costa redondeada donde el mar entra en la tierra
Golfo	Se producen porque los trozos de corteza (placas) chocan
Volcán y terremoto	Zona llana situada a mucha altura
Caudal	Cantidad de agua que lleva un río

3. Arrastra cada relieve a su sitio en el siguiente dibujo:



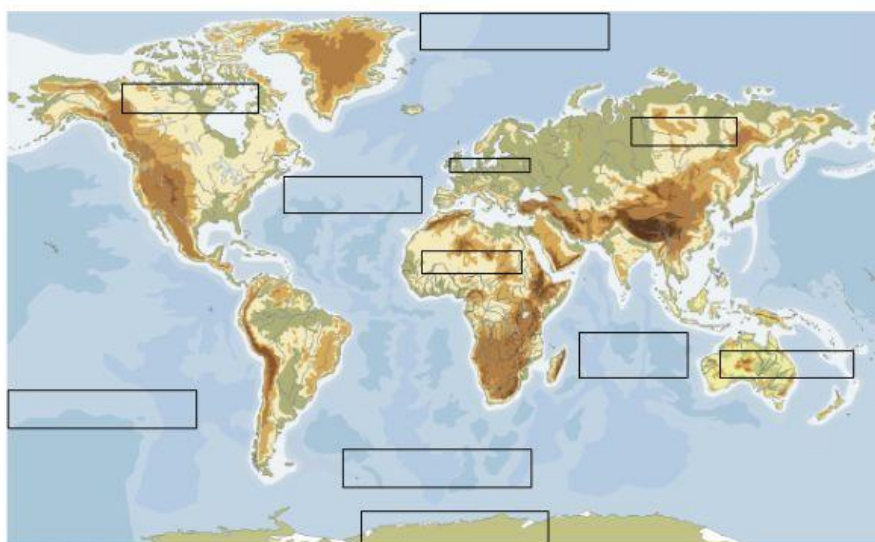
Cordillera  
Meseta  
Llanura  
valle  
Golfo  
Península

4. Arrastra en su sitio del mapa los siguientes ríos y relieves:



Tago  
Ebro  
Duero  
Guadiana  
Guadalquivir  
Pirineos  
Cordill. Bética.  
Cordill. Ibérica

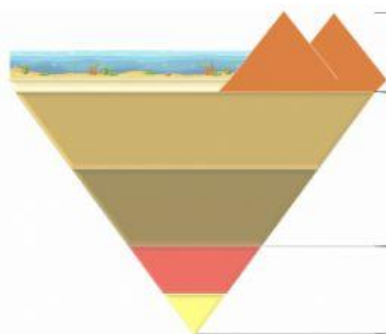
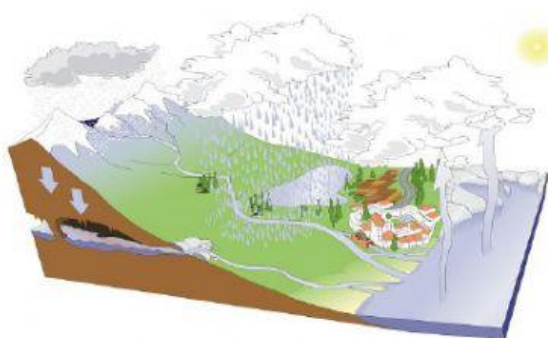
5. Arrastra en su sitio del mapa los siguientes ríos y relieves:



- |                  |             |
|------------------|-------------|
| Alpes            | Apalaches   |
| Siberia          | Ural        |
| Cáucaso          | Mekong      |
| Himalaya         | Nilo        |
| Andes            | Amazonas    |
| Montañas Rocosas | Mississippi |

En cada recuadro, selecciona el océano o continente correcto

6. Selecciona la opción correcta en los siguientes dibujos:



7. Une con flechas: Tienes ayuda en este video

En verano el río trae más agua

El río trae siempre la misma agua

Tiempo

Clima

Viento

El caudal del río viene de la lluvia

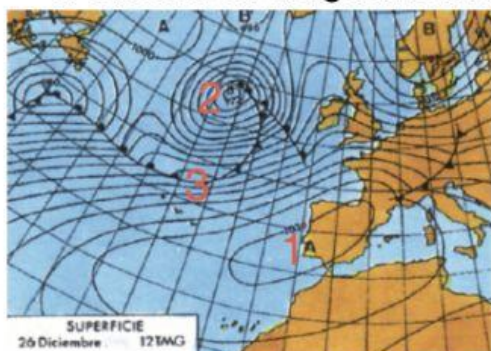
El caudal del río viene de la nieve

Estado habitual de la atmósfera

Estado momentáneo de la atmósfera

Movimiento del aire de anticiclón a Borrasca

8. Arrastra en el siguiente mapa: Tienes ayuda en este video



Isobaras – Anticiclón – Borrasca – Frente

¿Qué tiempo hará en España? Elige la respuesta correcta.