













El reloj de agujas

Observa la hora que marcan los relojes y arrastra cada cartelita al lugar que corresponda.

Las 11 menos 20		
Las 10 y 10		
Las 9 y 25		
Las 7 y 20		
Las 4 menos 25		
Las 2 menos 5		

Escribe en cada caja el número adecuado para completar el tiempo transcurrido.

		
<div> <div></div> horas y </div> <div> <div></div> minutos </div> <div>después</div>	<div> <div></div> horas y </div> <div> <div></div> minutos </div> <div>después</div>	<div> <div></div> horas y </div> <div> <div></div> minutos </div> <div>después</div>
		

Asocia cada problema con el reloj adecuado.

Marta llegó al instituto a las ocho menos diez. Si tarda una hora y cuarto en llegar, ¿a qué hora salió de casa?



Las clases de danza comienzan a las cinco y media y duran una hora y media. ¿A qué hora finalizan?



Irene comenzó a ver un documental a las siete y cuarto. El documental duró 45 minutos. ¿A qué hora acabó de verlo?

