

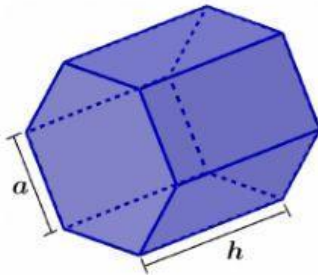
**SE**

GOBIERNO DE BAJA CALIFORNIA

Escuela Secundaria No. 23 "S.N.T.E."

Clave: 02EES0139Y Teléfono 686 577 52 21

Av. Azabache y Calle Moldavita s/n Fracc. Valle del Pedregal, Mexicali, B.C.

SEC N°23
SNTE**DETERMINA EL VOLUMEN DE LOS SIGUIENTES PRISMAS.****DATOS DEL PRISMA:**

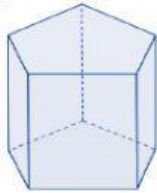
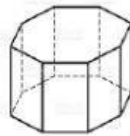
lado= 7 cm

apotema = 3cm

altura = 12cm

ÁREA

VOLUMEN

DETERMINA EL ÁREA DE LAS SIGUIENTES FIGURAS.**prisma pentagonal****prisma octagonal****cilindro**lado= 3cm
apotema= 1.5
volumen = 56.25cmlado= 5cm
apotema = 2cm
altura= 7cmradio= 4cm
altura= 8cm

altura

área

área

volumen

volumen

RESUELVE EL SIGUIENTE PROBLEMA

Determina el volumen de la siguiente alberca que mide de base 12m por 10m altura y 15 m de ancho.

¿Cuántos litros de agua tiene de capacidad.?

