

EJERCICIO DE MATEMÁTICA
TEMA: FORMA GEOMÉTRICA

NOMBRE:

I. CIERTO Y FALS. COLOCA C PARA CIERTO Y F PARA FALSO.

 Esta figura geométrica es un triángulo.





 Esta figura geométrica es un rombo.

 Esta figura geométrica es un cuadrado.

 Esta figura geométrica es un rectángulo.

 Esta figura geométrica es un rectángulo.

Observe los objetos y arrastra en su forma geométrica correcta.



Escribe que figura geométrica es: rectángulo, rombo, círculo, cuadrado y triángulo.

