




**LEE Y COMPRENDE**

**LEE CON ATENCIÓN EL ENUNCIADO Y COMPLETA LOS RECUADROS DE LA TABLA. DESPUÉS, CONTESTA A LAS PREGUNTAS.**

Tomás tiene 30 coches: 10 amarillos, 15 verdes y 5 rojos.

Carla tiene 38 coches: 20 verdes, 12 amarillos y 6 rojos.

Ernesto tiene 40 coches: 8 rojos, 22 verdes y 10 amarillos.

			
Carla			
Ernesto			
Tomás			

**CONTESTA A ESTAS PREGUNTAS**

¿Quién tiene más coches rojos? TOMÁS CARLA ERNESTO

¿Quién tiene más coches amarillos? TOMÁS CARLA ERNESTO

¿Quién tiene más coches? TOMÁS CARLA ERNESTO

¿Hay más coches verdes o rojos? VERDES ROJOS

¿Cuántos más coches verdes tiene Ernesto que Carla?

¿Cuántos coches amarillos tienen entre los 3?

¿Cuántos coches tiene Tomás?