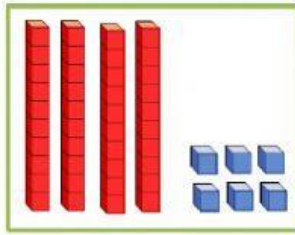
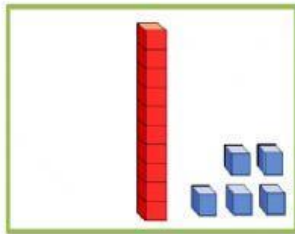


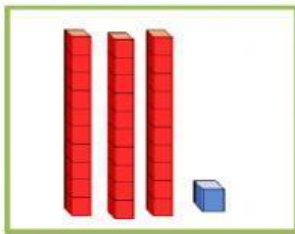
TAREA 1: Suma el número de unidades y decenas y arrastra la cifra a su lugar correcto.



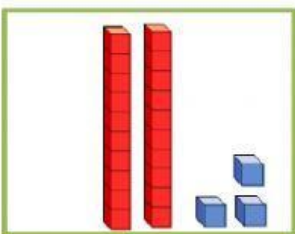
31



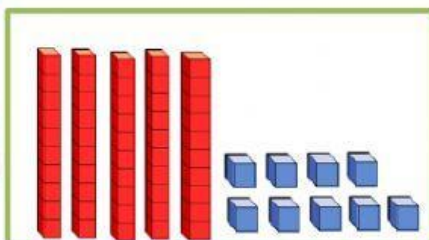
46



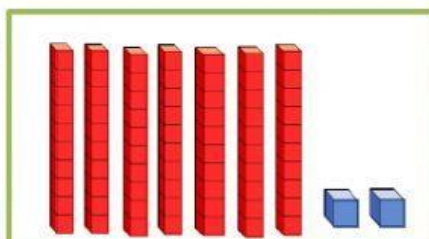
23



72



15



59

TAREA 2: Secuencia numérica. Escribe el número que falta en cada secuencia.

	17	
--	----	--

14		16
----	--	----

	10	
--	----	--

9		11
---	--	----

18		20
----	--	----

	13	
--	----	--

	19	
--	----	--

	5	
--	---	--

	18	
--	----	--

8		10
---	--	----

	15	
--	----	--

10		12
----	--	----

	16	
--	----	--

12		14
----	--	----

7		9
---	--	---

17		19
----	--	----

	13	
--	----	--

	19	
--	----	--

15		17
----	--	----

	6	
--	---	--

16		18
----	--	----

TAREA 3: Mayor que y menor que. Mueve los números cada vez y colócalos donde corresponda en lugar del símbolo que hay en cada línea.

56 35

	<	
--	---	--

76 67

	>	
--	---	--