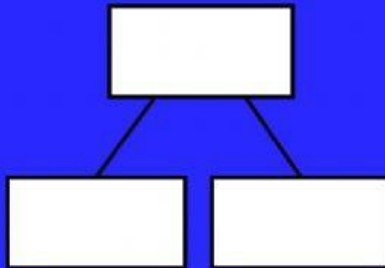


En el frutero de Tania había un montón de fresas, usó 23 para hacer un batido de fruta y le quedaron 38.

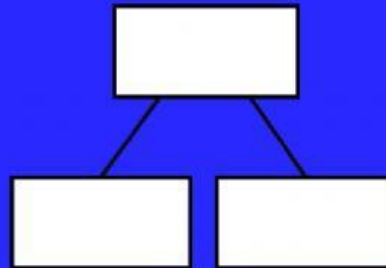
¿Cuántas fresas había en el frutero de Tania?



OPERACIÓN

En el frutero de Nora había 43 fresas, usó unas cuantas para hacer un batido de fruta y ahora quedan 28.

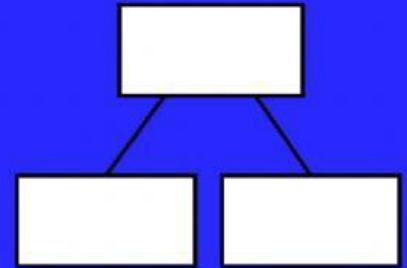
¿Cuántas fresas usó en el batido?



OPERACIÓN

En el frutero de Luis había 54 fresas y usó 17 para hacerse un batido de fruta.

¿Cuántas fresas quedan en el frutero?



OPERACIÓN