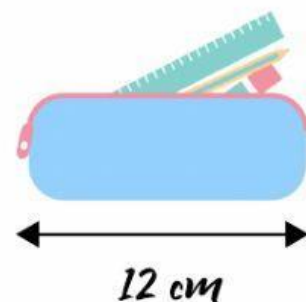
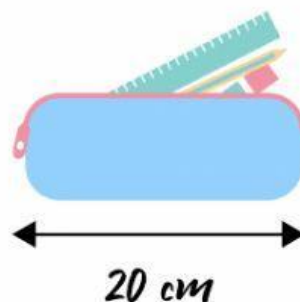
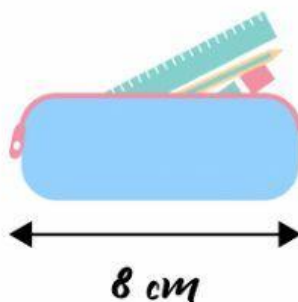




Resuelve los siguientes problemas 2

1. Gorka juega este sábado en un partido de fútbol. Si el partido dura 5.400 segundos y Gorka llega siempre 40 min antes al campo. ¿Cuántos segundos está Gorka en total?
2. Leire quiere comprar un estuche, si entre sus materiales tiene unas tijeras de 15 cm, un lápiz de 8cm y una goma de 5 cm ¿Cuál de estos estuches no le sirve?



3. Mencey se ha propuesto medir en pasos el salón de su casa. Si ha dado un total de 130 pasos y 1 paso de Mencey mide 42cm. ¿Cuántos cm mide su salón? ¿Y cuántos mm?



4. Julia ha cambiado el agua al acuario de sus peces. Si ha usado una botella de 2 L y la ha llenado 7 veces .

- ¿Cuántos L tiene el acuario en total?
- ¿Y cuántos ml?

5. Jorge y Yeiden quieren preparar un tarta para entretenerse en esta cuarentena. Pero tiene un problema, los ingredientes de la receta están en g y su pesa mide en mg.

A. haz los cambios necesarios:

- 100 g de harina
- 200 g de mantequilla
- 2 huevos
- 100 g de azúcar
- 235 g de fresas
- 2 Natillas de chocolate de 125 g cada una.

B. ¿Cuántos gramos han usado en total?

C. ¿Y Cuántos mg ?

