








DE LOS DIBUJOS: MARCÁ CUÁLES CORRESPONDEN A COSAS NATURALES **N** Y CUÁLES A COSAS ARTIFICIALES **A**



DE LOS INVENTOS DE LA TABLA ¿QUÉ PUEDES HACER CON ELLOS?

INVENTO	NECESIDADES QUE SATISFACE
	COMUNICARNOS. JUGAR. DISPONER DE INTERNET EN CUALQUIER LUGAR.
	DORMIR CÓMODAMENTE. DESCANSAR.
	VIAJAR. TRASLADARNOS.
	CAZAR. DEFENDERSE.
	COMER. CORTAR Y PINCHAR LA COMIDA.

**3. TACHA EL QUE CORRESPONDA
Y COMPLETA LO QUE FALTA SOBRE LAS LÍNEAS PUNTEADAS
DEL SIGUIENTE PÁRRAFO.**

LAS TECNOLOGÍAS SON LOS ELEMENTOS:
NATURALES ☐ **ARTIFICIALES** ☐

ES DECIR, CREADOS POR

CON EL PROPÓSITO DE

EN GENERAL, LAS LLAMAMOS

inventos

el ser humano

resolver un problema