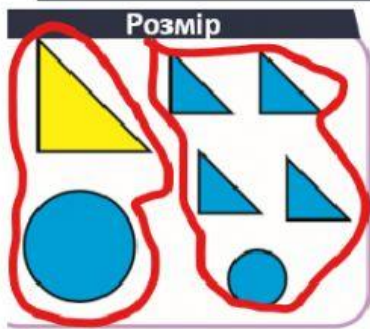


Повторюємо числа 1–7

Склади до кожного малюнка можливі рівності.



$$2 + 5 = 7$$

$$5 + 2 = 7$$

$$7 - 2 = 5$$

$$7 - 5 = 2$$

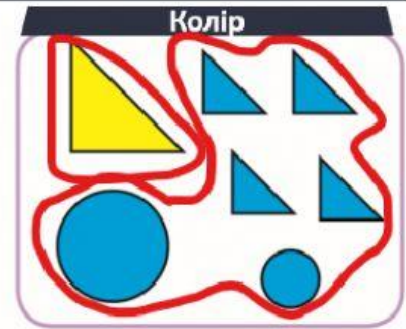


$$2 + 5 = 7$$

$$5 + 2 = 7$$

$$7 - 2 = 5$$

$$7 - 5 = 2$$



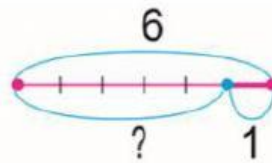

$$1 + 6 = 7$$

$$6 + 1 = 7$$

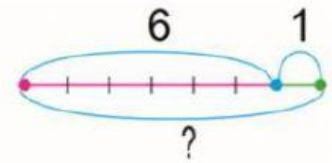
$$7 - 1 = 6$$

$$7 - 6 = 1$$

Добери схему та вираз до малюнка.



$$6 - 1$$



$$6 + 1$$

Знайди значення виразів.

$$7 - 1 = 6$$

$$5 + 1 = 4$$

$$2 + 1 = 1$$

$$9 - 1 = 8$$

$$5 - 1 = 4$$

$$6 + 1 = 5$$

$$8 + 1 = 9$$

$$4 - 1 = 2$$