

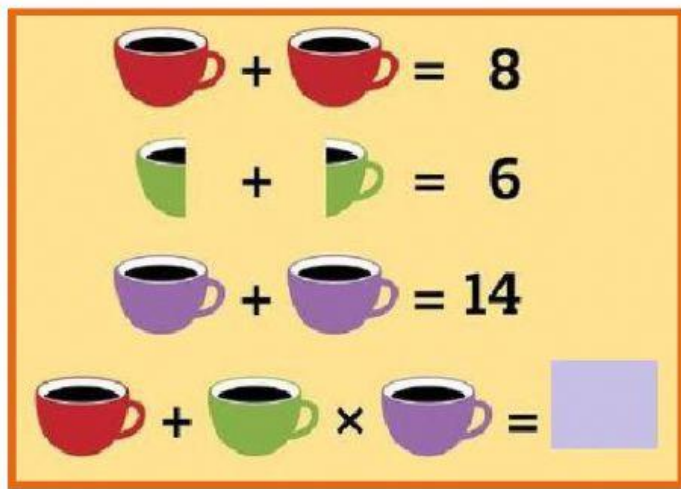


"SEMANA MATEMÁTICA"

"CONCURSO DE ACERTIJOS MATEMÁTICOS"

❖ Observa atentamente cada imagen y escribe la respuesta en el espacio designado.

1)
















	=	<input type="text"/>
	=	<input type="text"/>
	=	<input type="text"/>
	=	<input type="text"/>





2)



3)

	+		+		=	30
	+		+		=	22
	+		+		=	14
	+		x		=	



	=	<input type="text"/>
	=	<input type="text"/>
	=	<input type="text"/>
	=	<input type="text"/>

❖ Lee atentamente y escribe tu respuesta

acertijos

Hay gatos en un cajón, cada gato en un rincón, cada gato ve tres gatos ¿sabes cuántos gatos son?




3

