




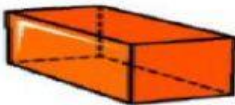

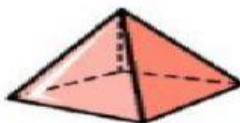


## EVALUACIÓN DE GEOMETRÍA

### CUARTO PERIODO – GRADO TERCERO

NOMBRE: \_\_\_\_\_

1. Arrastra a donde corresponda el nombre del sólido geométrico

 _____	 _____	 _____
 _____	 _____	 _____
<input type="checkbox"/> Cono	<input type="checkbox"/> Cubo	<input type="checkbox"/> Esfera
<input type="checkbox"/> Cilindro	<input type="checkbox"/> Prisma	<input type="checkbox"/> Pirámide

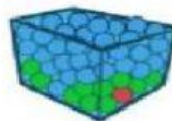
Escoge la probabilidad correcta para cada situación.

Sacar una bola amarilla



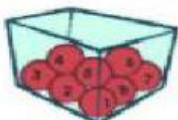
- ☐ Seguro
- ☐ Posible
- ☐ Imposible

Sacar una bola verde



- ☐ Seguro
- ☐ Posible
- ☐ Imposible

Sacar una bola roja




- ☐ Seguro
- ☐ Posible
- ☐ Imposible

Sacar una bola negra





- ☐ Seguro
- ☐ Posible
- ☐ Imposible

I. Observa el plano y escribe lo que se te pide





Coordenadas de:


1.  = (   )

2.  = (   )

3.  = (   )

4.  = (   )

5.  = (   )

6.  = (   )

Buena  
Suerte!