

Los polígonos: elementos y clasificación

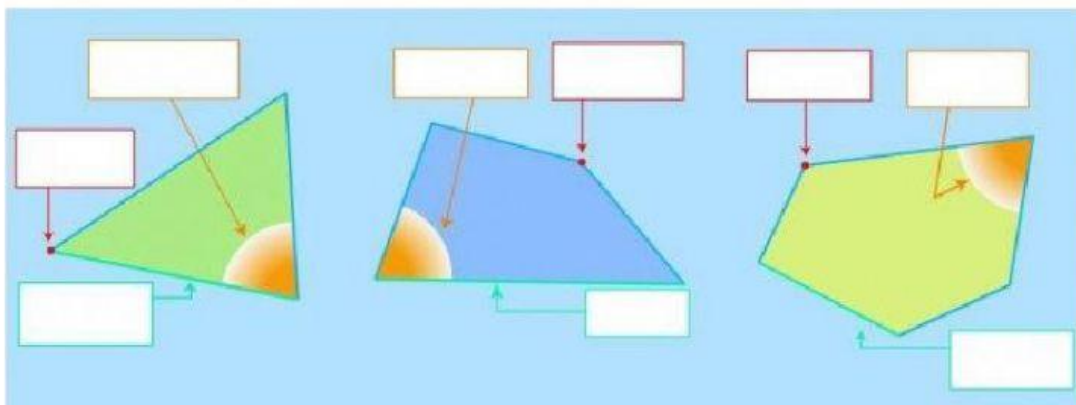
¡Abre bien los ojos y los oídos!

RECUERDA:

Los elementos de un polígono son: lado, ángulo y vértice

1


Señala los elementos de cada polígono (No olvides las tildes)



2

Picha con tu ratón en la respuesta correcta.

¿Cuál de estos polígonos es un pentágono?




¿Cuál de estos polígonos es un cuadrilátero?






¿Cuál de estos polígonos es un hexágono?



¿Cuál de estos polígonos es un triángulo?



3 Cuenta el número de lados de cada polígono y clasifícalos.



✚ El polígono rojo tiene lados. Es un

✚ El polígono azul tiene lados. Es un

✚ El polígono amarillo tiene lados. Es un

✚ El polígono verde tiene lados. Es un

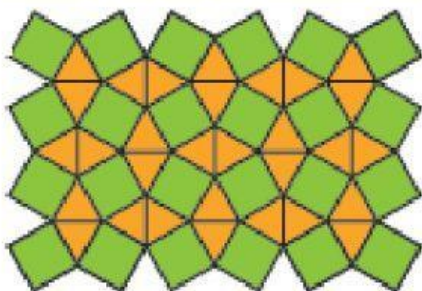
4 ¡Toca pensar!

★ Si un polígono tiene 5 vértices, ¿qué clase de polígono es?

★ Si un polígono tiene 6 ángulos, ¿qué clase de polígono es?

★ Si un polígono tiene 3 lados, ¿qué clase de polígono es?

5 ¿Qué polígonos observas en los azulejos de cada mosaico?



Azulejos naranjas:

Azulejos verdes:

Azulejos morados:

Azulejos amarillos:

Azulejos rojos:

