

HOJA DE TRABAJO 15 PARA 9° GRADO

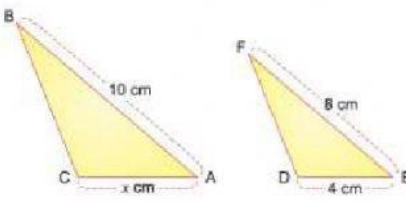
ELABORADO POR EL LIC. AMILCAR DELGADO

INSTRUCCIONES: Vea el video las veces que sea necesario, resuelva los ejercicios en su cartilla y escriba en los rectángulos indicados sus respuestas.



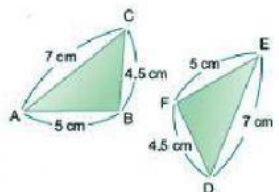
☐ ¿Cuál es la longitud del lado CA?:

A) CA= 3CM
B) CA= 4CM
C) CA= 5CM
D) CA= 6CM



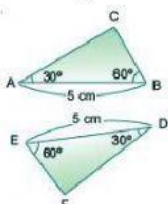
☐ Observe detenidamente los siguientes triángulos y conteste ¿Cuál es el criterio de congruencia?

A) LAL
B) LLL
C) ALA
D) Ninguna es correcta



☐ Observe detenidamente los siguientes triángulos y conteste ¿Cuál es el criterio de congruencia?

A) LAL
B) LLL
C) ALA
D) Ninguna es correcta



☐ Observe detenidamente los siguientes triángulos y conteste ¿Cuál es el criterio de congruencia?

A) LAL
B) LLL
C) ALA
D) Ninguna es correcta

