

ESCUELA PARTICULAR "SANTA PAULA"

EVALUACIÓN MATEMÁTICA – PARCIAL I

NOMBRE:

CURSO:

INDICACIONES:

- ✓ Lee detenidamente cada pregunta y contesta de acuerdo a lo que se solicita.

1. Escribe cada número que se muestra a continuación (1 punto):

Quinientos veinte mil

Cien mil

Dos millones trescientos mil cuatrocientos

Ciento cincuenta mil quinientos

2. Une cada número con su respectiva escritura (1 punto)

5 700 400

Cinco millones setecientos mil

5 700 000

Cinco millones setecientos mil cuatrocientos

5 700

Quinientos setenta

570

Cinco mil setecientos

3. Elige el símbolo matemático adecuado (1 punto)

5 789 200

5 400 789

4 789 200

3 500 709

189 200

2 209 200

9 409 200

9 999 200

4. Selecciona el número que sea MAYOR de cada pareja de números (1 punto)

a

4 189

4 598

b

5 678

9 876

c

100 000





900

d

96 690

40 890

5. Arrastra cada número romano con su respectivo valor (1punto)



			

10	100	1	5
----	-----	---	---

6. Selecciona el número romano correcto (1punto)

20	
4	
6	
12	

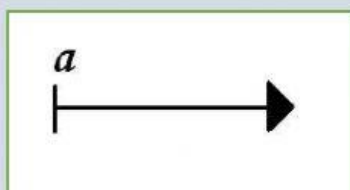
7. Selecciona la hora que marca el reloj (1punto)

8. Une cada gráfico con su respectivo nombre (1pto)

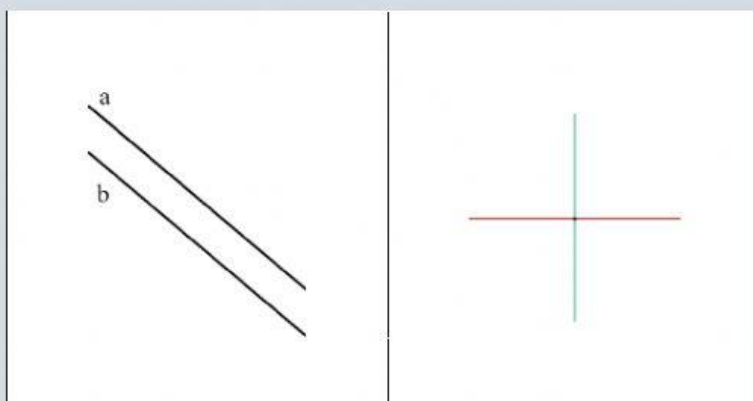


Recta



Semirrecta

9. Selecciona cómo se llama cada tipo de recta (1pto)



10. Selecciona Verdadero o Falso (1 punto)

Una recta no tiene inicio ni fin:

☒ Verdadero

☐ Falso

Las rectas secantes se cortan en un punto en común:

☒ Verdadero

☐ Falso

**FELICITACIONES POR TUS LOGROS ALCANZADOS ESTE PARCIAL
DA CLICK EN TERMINADO Y LLENA TUS DATOS.**