

MULTIPLICACIÓN Y DIVISIÓN



Selecciona los resultados de la tabla del 4

10	40	20	4	28
32	2	12	18	1
16	22	36	6	5
8	24	7	13	16

Completa la serie numérica y escribe el resultado de las multiplicaciones.

4 _____ 20 _____

Escribe el número que falta.


$$4 \times \text{cloud} = 20$$


$$4 \times \text{cloud} = 16$$


$$4 \times \text{cloud} = 28$$


$$4 \times \text{cloud} = 36$$


Resuelve las siguientes multiplicaciones.


$5 \times 6 =$ 

$5 \times 9 =$ 

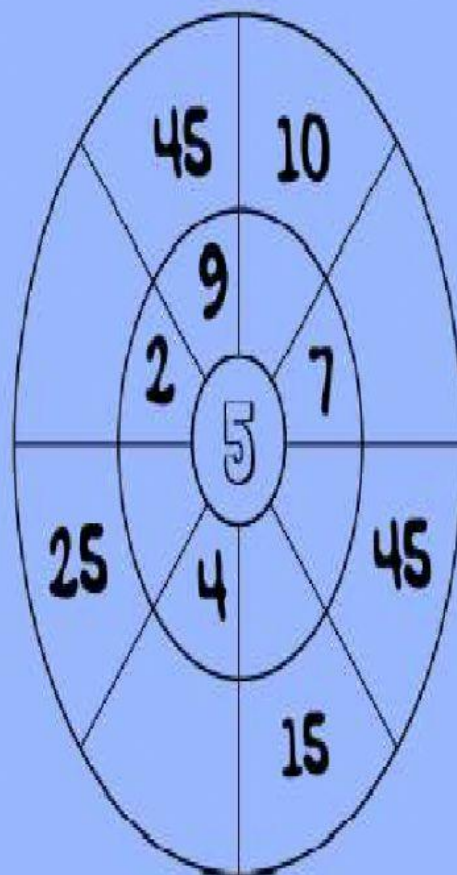
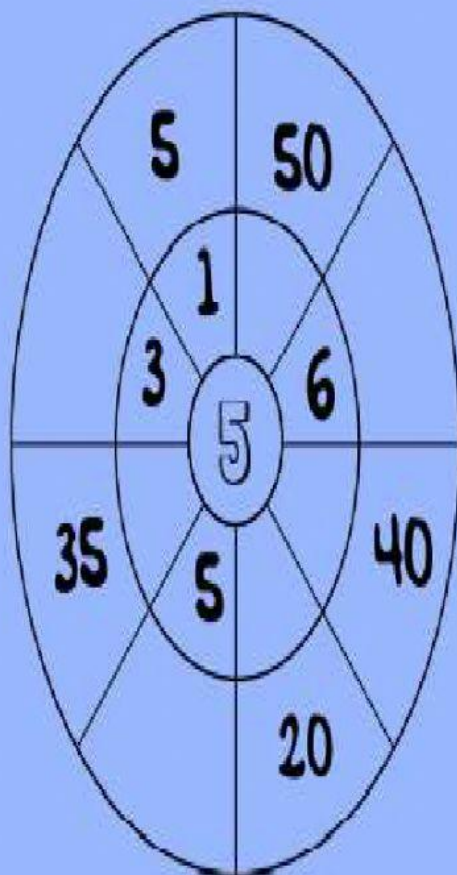
$5 \times 2 =$ 

$5 \times 3 =$ 

$5 \times 7 =$ 

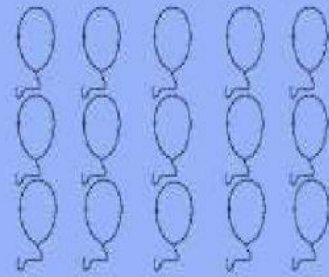
$5 \times 5 =$ 

Completa el círculo multiplicando el número del centro por el anillo intermedio para conseguir los números externos.




Agrupar y resolver

Tenemos 15 globos y lo repartimos en bolsas de 3 globos.
¿Cuántas bolsas necesitamos?



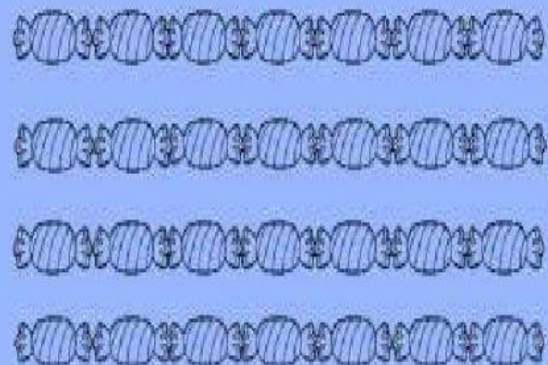
$$15:3=\square \quad \text{Necesitamos } ______ \text{ bolsas}$$

Agrupamos 10 búhos de cinco en cinco.
¿Cuántos grupos podemos hacer?



$$10:5=\square \quad \text{Podemos hacer } ______ \text{ grupos}$$

Tenemos 28 caramelos y lo repartimos en bolsas de cuatro caramelos.
¿Cuántas bolsas podemos hacer?



$$28:4=\square$$

Podemos hacer $______$ bolsas