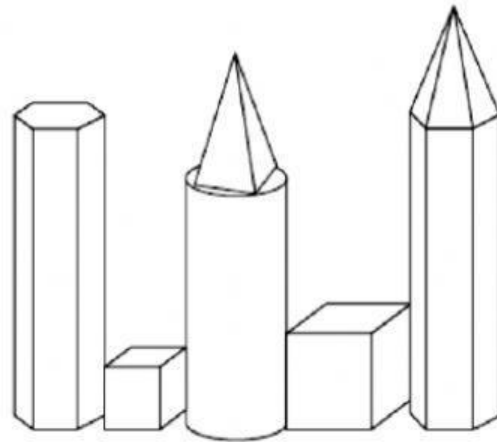


Cuerpo geométricos

1 Cuenta y completa.



Si tienes dudas, vuelve a contar.

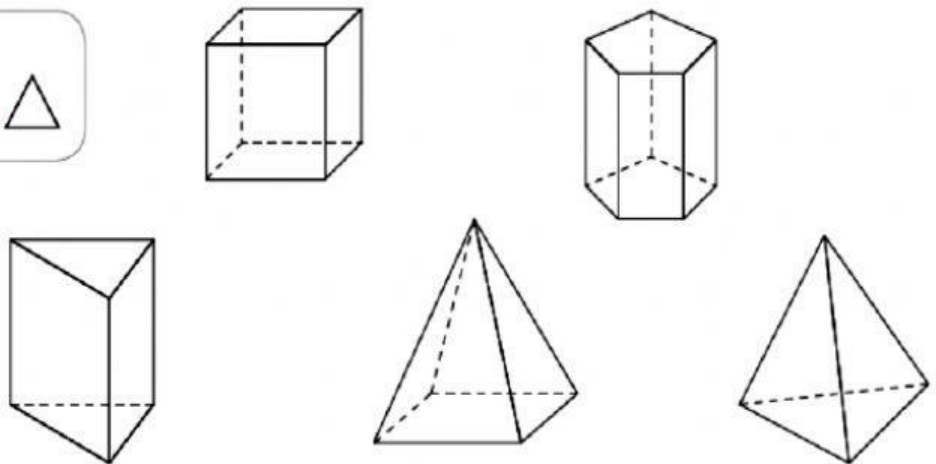


Prismas ►

Pirámides ►

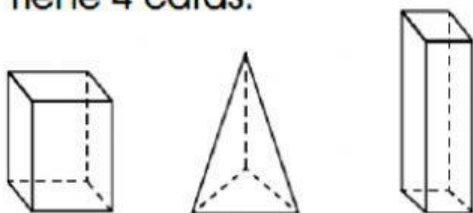
2 Lee y rodea la figura en la que piensa Carla.

Es un prisma.
Algunas caras son



3 Descubre el cuerpo geométrico que se describe y enciérralo.

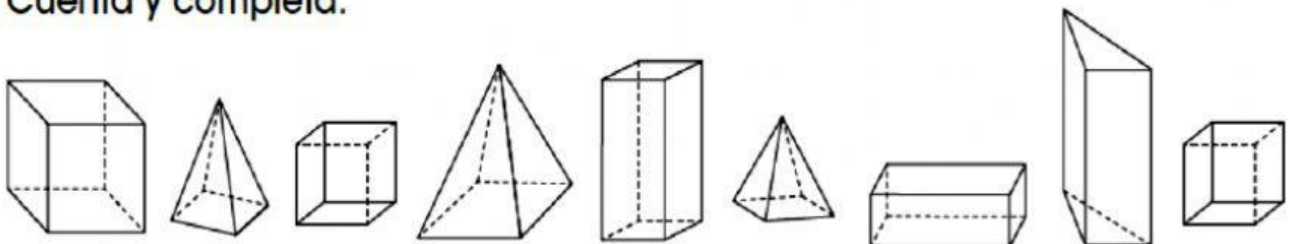
• Tiene 4 caras.



• Tiene 12 aristas.



4 Cuenta y completa.



Número de prismas ►

Número de pirámides ►