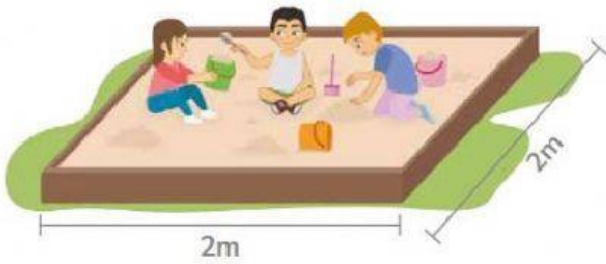


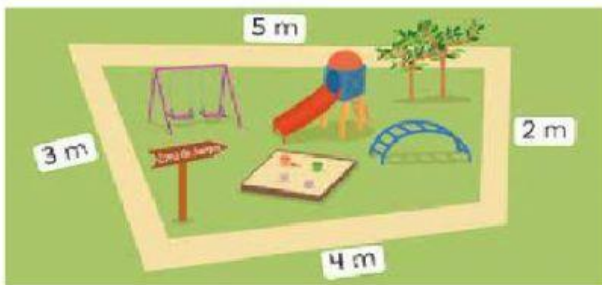
ACTIVIDAD INTERACTIVA DE GEOMETRÍA

PERÍMETRO DE POLÍGONOS

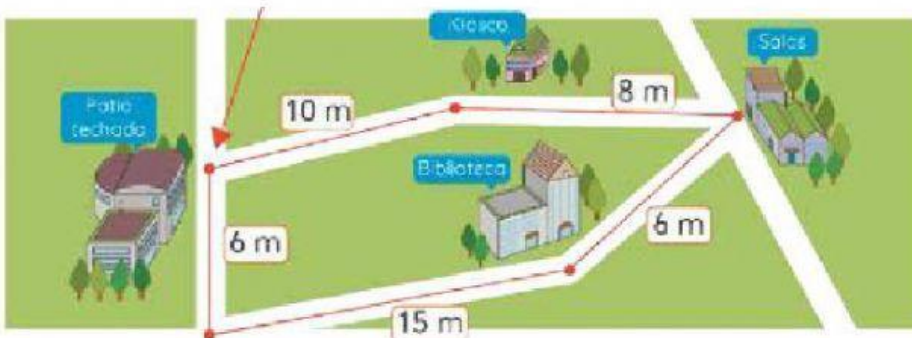
1. En los juegos se colocará una caja cuadrada de arena. ¿Cuál es su perímetro?



2. Toda la zona de juegos se cerrará con una malla. ¿Cuál es su perímetro?



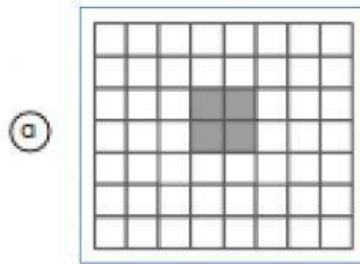

3. Se cierra una zona en la escuela con cinta roja. ¿Cuál es su perímetro?



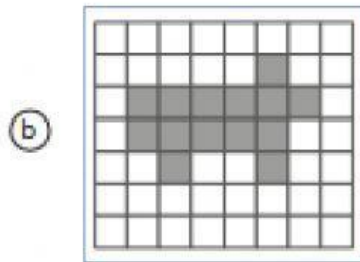
4. A Martha le regalan un portarretrato. ¿Cuál es su perímetro?



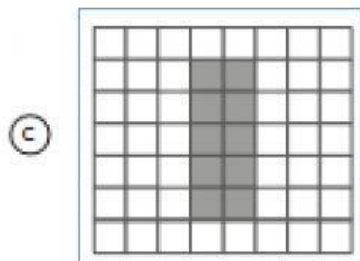
5. ¿Cuál figura cumple con el perímetro indicado? Une con una línea:



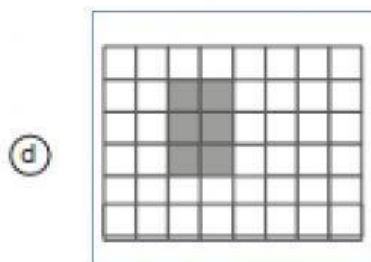
10 cm



8 cm



22 cm



14 cm