



**DINAS PENDIDIKAN**  
**KEC. BUKIT BATU KAB. BENGKALIS**  
**PUSAT KEGIATAN KKG DAN KKKS GUGUS I**


Jln. Jend. Sudirman Desa Sejangat Kecamatan Bukit Batu

Kode Pos. 28761

<b>UJIAN SEMESTER GENAP TAHUN PELAJARAN 2020/2021 SEKOLAH DASAR KURIKULUM 2013</b>	<b>Mata Pelajaran : TEMA 6</b>	<b>KELAS</b> <b>2</b>
	<b>Hari, Tanggal :</b>	
	<b>Waktu :</b>	

**Berikan tanda silang (x) pada jawaban yang benar !**

- Berikut yang tidak termasuk dalam melanggar peraturan sekolah ...
  - Tidak melaksanakan piket
  - Tidak mengikuti pelajaran
  - Tidak memakai seragam
  - Tidak berangkat sekolah
- Edo dan Ani tidak mengikuti pelajaran olah raga, Edo dan Ani melanggar tata tertib pelajaran ..
  - Matematika
  - Olahraga
  - IPS
  - IPA
- Menjaga kebersihan sekolah ,merawat tanaman,dan mengikuti upacara termasuk aturan ...
  - Disekolah
  - Dirumah
  - Di lingkungan masyarakat
  - Dikelas
- Dengan menjalankan piket dengan rajin membuat kelas ...
  - Kotor
  - Nyaman
  - Bersih
  - Indah
- Di bawah ini yang bukan termasuk peraturan di sekolah adalah ...
  - Mengikuti piket
  - Tidak pakai helm
  - Memakai seragam
  - Berangkat pagi
- Cermati gambar dibawah ini!



Gambar di atas adalah contoh dari huruf ...

- Tegak bersambung
  - Bersambung
  - Tegak
  - Tegak berdiri
- “sudah empat hari kucing purwanto hilang “ perbaiki huruf dengan menggunakan capital yang benar ...
    - Sudah Empat minggu Kucing Purwanto Hilang
    - Sudah empat Minggu kucing Purwanto hilang
    - Sudah empat minggu kucing Purwanto hilang
    - Sudah empat Minggu kucing purwanto hilang
  - Contoh kalimat menggunakan nama hari dan bulan dengan huruf capital yang benar...
    - Senin dan januari
    - Senin dan Januari
    - Senin Dan januari
    - Senin dan Januari

9. "ibu – mengerjakan – lani – PR - membantu" susunlah kata berikut menjadi kalimat dengan menggunakan huruf capital yang benar ...

- a. Ibu membantu Lani mengerjakan PR
- b. ibu membantu lani mengerjakan PR
- c. Ibu Membantu Lani mengerjakan PR
- d. Ibu Membantu Lani Mengerjakan PR

10. Penggunaan titik pada huruf tegak bersambung di bawah yang benar ...

- a. hari ini terjadi banjir. di kampung ku
- b. hari ini terjadi banjir di kampung ku
- c. hari ini terjadi banjir di kampung ku.
- d. hari ini. terjadi banjir di kampung ku

11. Beni memiliki telur 100g dan ingin di kasih setengah nya ke Lia berapa gram setengah telur itu jika di timbang ...

a.



b.



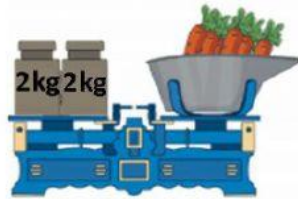
c.



d.



12. Perhatikan gambar dibawah ini!



Gambar di atas memiliki berat berapa kg jika di total ...

a.



b.



c.




d.



13. Ibu ani membeli wortel 1 kg dan kubis 2 kg dan telur 5 kg berapa seluruh Kg belanjaan ibu ani ...

- a. 5 kg
- b. 8 kg
- c. 7 kg
- d. 10 kg

14. Perhatikan gambar dibawah ini!



Hitung lah belanjaan di atas dalam hitungan kg ...

- a. 10 kg
- b. 100 ons
- c. 9 kg
- d. 5 kg

15. Cermatilah gambar dibawah ini!



Tanaman A ... dari tanaman B

- a. Kurang dari
- b. Lebih dari
- c. Sama dengan
- d. Benar semua

16. Fungsi garis atas pada lagu berfungsi untuk ...

- a. Panjang pendek suara
- b. Tidak ada fungsi
- c. Berhenti
- d. Ambil nafas

17. Cermati gambar dibawah ini!



Gerakan di atas merupakan gerakan menirukan ...

- a. Kangguru
- b. Ayam
- c. Ikan
- d. Jerapah

18. Platisin dapat dibuat menjadi karya seni ... dimensi

- a. Satu dimensi
- b. Dua dimensi
- c. Tiga dimensi
- d. Empat dimensi

19. Perhatikan gambar dibawah ini!



Bahan yang di gunakan untuk kerajinan di atas adalah ...

- a. Sedotan plastic
- b. kertas tisu
- c. Plastic warna warni
- d. kertas Koran

20. Contoh plastisin bisa dibuat model, kecuali ...

- a. Buah
- b. bunga
- c. Daun
- d. rumah

# KUNCI JAWABAN UJIAN SEMESTER II (GENAP)

Mata Pelajaran : TEMA 6  
Kelas : II (DUA)  
Tahun Pelajaran : 2020/2021

## PILIHAN GANDA

No	Jawaban	Skor
1	D	5
2	B	5
3	A	5
4	C	5
5	B	5
6	A	5
7	C	5
8	D	5
9	A	5
10	C	5
11	B	5
12	C	5
13	B	5
14	A	5
15	A	5
16	A	5
17	B	5
18	C	5
19	C	5
20	D	5