

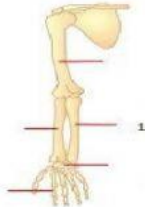
# SOAL PENILAIAN TENGAH SEMESTER

KELAS / SEMESTER : V ( LIMA )  
TAHUN PELAJARAN : 1 (SATU)

## A. Objektif

1. Fungsi kaki katak saat berada di air adalah untuk . . .  
a. Melompat                      b. Berjalan                      c. Berenang                      d. Merayap
2. Macam gerak otot ada dua yaitu . . .  
a. Gerak otot aktif dan pasif                      c. Gerak otot primer dan sekunder  
b. Gerak otot depan dan belakang                      d. Gerak otot sadar dan tidak sadar

3. p




Tulang yang ditunjukkan no 1 adalah . . .

- |                     |                  |
|---------------------|------------------|
| a. Tulang pengumpil | c. Tulang tangan |
| b. Tulang hasta     | d. Tulang lengan |

4. Penyakit pada tulang yang disebabkan oleh menurunnya kepadatan tulang disebut . . .  
a. Rakitis                      b. Kifosis                      c. Osteoforosis                      d. Lordosis
5. Ide pokok teks biasanya dapat ditemukan dalam kalimat . . .  
a. Pendukung                      b. Pertanyaan                      c. Penjelas                      d. Utama

6. Prinsip-prinsip gotong royong sangat bermanfaat bagi pelaksanaan pembangunan nasional. Karena semua masyarakat merasa saling memiliki. Masyarakat juga merasa mempunyai tujuan yang sama, yakni terwujudnya kehidupan yang sejahtera. Dengan bergotong royong, segala program pembangunan yang dicanangkan oleh pemerintah akan dapat dilaksanakan dengan baik tanpa adanya gangguan yang disebabkan oleh ketidakharmonisan masyarakat.



Ide pokok paragraf diatas adalah . . .

- |                          |                             |
|--------------------------|-----------------------------|
| a. Prinsip gotong royong | c. Pembangunan yang baik    |
| b. Kehidupan sejahtera   | d. Masyarakat yang harmonis |

7. Organ gerak pada hewan dan manusia memiliki kesamaan. Alat-alat gerak yang digunakan pada manusia dan hewan ada dua macam, yaitu alat gerak pasif berupa tulang dan alat gerak aktif berupa otot. Kedua alat gerak ini akan bekerja sama dalam melakukan pergerakan. Kerja sama antara kedua alat gerak tersebut membentuk suatu sistem yang disebut sistem gerak.

Tuliskan ide pokok pada paragraf diatas !


- |   |  |
|---|--|
| a. Kesamaan organ gerak hewan dan manusia | c. Alat gerak pasif dan alat gerak aktif |
| b. Dua macam alat gerak                   | d. sistem gerak pada hewan dan manusia   |

8. Sebuah paragraf terdiri atas kalimat utama dan kalimat . . .  
a. Pokok                      b. Tanya                      c. Penjelas                      d. perintah

9. Gambar di bawah ini merupakan gambar . . . .  
 a. Realis                      b. Karikatur                      c. Kartun                      d. dekoratif



10.



Gambar di bawah ini merupakan contoh cover buku . . . .

- a. Pendidikan                      c. Hewan  
 b. Masakan                      d. cerita

11. Proses pemberian warna pada komik disebut . . . .

- a. Sketching                      b. Inking                      c. Colouring                      d. lattering

12.



Gambar di samping merupakan contoh gambar . . . .

- a. Karikatur  
 b. Komik  
 c. Cerpen  
 d. puisi

13. Batas wilayah Indonesia berdasarkan letak geografisnya sebelah Barat berbatasan dengan . . . .

- a. Samudera Pasifik                      b. Samudera Hindia                      c. Selat Malaka                      d. Papua Nugini

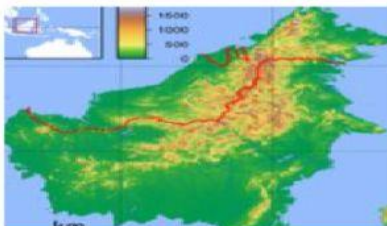
14.



Gambar peta di samping adalah peta pulau . . . .

- a. Jawa                      c. Sulawesi  
 b. Kalimantan                      d. Bali

15.



Peta di samping termasuk ke dalam peta pulau. . . .

- a. jawa  
 b. kalimantan  
 c. Sumatera  
 d. Sulawesi

16. Danau toba merupakan danau yang terletak di pulau . . . .

- a. Sumatera                      b. Jawa                      c. Kalimantan                      d. Sulawesi

17. Memilih ketua kelas dengan kesepakatan bersama merupakan penerapan pancasila yang sesuai dengan sila dengan lambang . . . .



A



b



c



d

18.



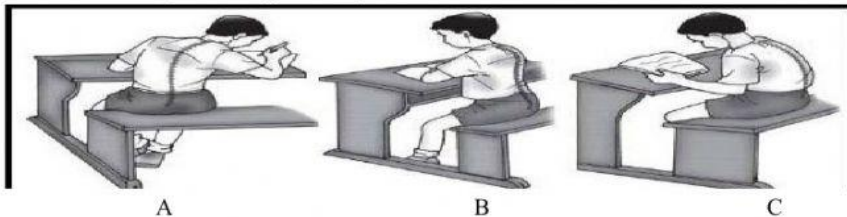
Lambang sila di samping adalah lambang dari sila . . . .

- a. Ketuhanan yang maha esa
- b. Kemanusiaan yang adil dan beradab
- c. Persatuan Indonesia
- d. Keadilan sosial bagi seluruh rakyat Indonesia

19. Sikap yang sesuai dengan nilai-nilai sila ke empat adalah . . . .
- a. Tidak mengganggu teman atau tetangga
  - b. Mengikuti musyawarah
  - c. Memberi bantuan korban bencana
  - d. Gemar membeli produk buatan Indonesia
20. Contoh perilaku yang sesuai dengan nilai-nilai pancasila adalah . . . .
- a. sombong
  - b. Dengki
  - c. Egois
  - d. Adil

#### B. Essay

21. Tuliskan kelainan pada tulang belakang berikut ini !



22. Perhatikan paragraf berikut !
- Hasil laut seperti karang, teripang, dan kepiting merupakan komoditas ekspor. Oleh karena itu, para nelayan kita harus pandai-pandai dalam membudidayakan dan memanen hasil laut tersebut, jangan sampai komoditas hasil laut dari luar negeri masuk ke Indonesia. Para generasi muda hendaknya ikut memikirkan pembangunan kelautan. Janganlah berpandangan bahwa laut adalah sesuatu yang menakutkan, tetapi harus sebaliknya, laut merupakan sahabat.
- Gagasan utama paragraf tersebut adalah . . . .
23. Cover yang baik adalah yang bisa mempengaruhi dan menarik minat orang untuk membaca isi buku secara keseluruhan. Untuk itu, maka sebuah cover harus memenuhi unsur-unsur berikut. Tuliskan 2 unsur tersebut !
24. Tuliskan 2 pekerjaan penduduk yang berada di pantai !
25. Tuliskan 2 contoh sikap disiplin di rumah !

**Kunci jawaban Penilaian Tengah Semester I**  
**Tema 1**

No	Kunci Jawaban	MP	Skor
1	C	IPA	1
2	A		1
3	A		1
4	C		1
21	a. Skoliosis b. Lordosis c. kifosis		6
5	D	Bahasa Indonesia	1
6	A		1
7	A		1
8	C		1
22	Hasil laut seperti karang, teripang, dan kepiting merupakan komoditas ekspor		6
9	B	SBDP	1
10	A		1
11	C		1
12	B		1
23	Ciri-ciri komik 1. Terdapat judul dengan pemilihan jenis huruf yang menarik dan mencolok. 2. Terdapat kalimat penjelas judul yang singkat dan mudah dipahami. 3. Terdapat nama penulis. 4. Terdapat identitas penerbit. 5. Menyertakan gambar yang menarik. 6. Terdapat sinopsi isi buku pada sisi belakang. 7. Terdapat identitas buku pada punggung buku		6
13	B	IPS	1
14	C		1
15	C		1
16	A		1
24	Pekerjaan penduduk di pantai : - nelayan - petani garam - penjaga pantai		6
17	B	PPKN	1
18	C		1
19	B		1
20	D		1
25	Disiplin di rumah - Membantu orangtua - Mengerjakan pekerjaan rumah - Bangun tepat waktu		6



KISI-KISI SOAL PENILAIAN TENGAH SEMESTER SATU  
TEMA 1

No	Muatan Pelajaran	Kompetensi Dasar		Bentuk Soal	Skor	No Soal
1	IPA	3.1	Menjelaskan alat gerak dan fungsinya pada hewan dan manusia serta cara memelihara kesehatan alat gerak manusia	PG	1	1-4
				Isian	6	21
2	Bahasa Indonesia	3.1	Menentukan pokok pikiran dalam teks lisan dan tulisan	PG	1	5-8
				Isian	6	22
3	SBDP	3.1	Memahami gambar cerita	PG	1	9-12
				Isian	6	23
4	IPS	3.1	Mengidentifikasi karakteristik geografis Indonesia sebagai negara kepulauan/maritim dan agraris serta pengaruhnya terhadap kehidupan ekonomi, sosial, budaya, komunikasi serta transportasi	PG	1	13-16
				Isian	6	24
5	PKN	3.1	Mengidentifikasi nilai-nilai Pancasila dalam kehidupan sehari-hari	PG	1	17-20
				Isian	6	25