

# CONTROL 4º DE PRIMARIA

## TEMAS 9 Y 10

1. Une con flechas los objetos y la unidad de medida que le corresponda.

Longitud de tu pierna

Centilitros

Capacidad de una lata de refresco

Kilogramos

Tu masa

Milímetros

Grosor de una cartulina

Centímetros

- 
2. Una botella de refresco da para seis vasos de 25 cl, ¿cuántos litros caben en la botella?

Resultado:

litros

- 
3. Escribe los números que faltan.

2,5 hg = ..... cg

32,9 cl = .....dal

147 km = .....dm

1567 mg = .....hg

5,6 dam = .....cm

794 mm = .....m

- 
4. Marta está preparando los regalos que va a entregar a los invitados el día de su boda. El regalo consiste en una botella de vino. La botella de vino cuesta 2,5€. Marta tiene 148 invitados, ¿cuánto le costarán a Marta los regalos?

Resultado:

€

5. Relaciona cada animal con su masa.

León

820.000g

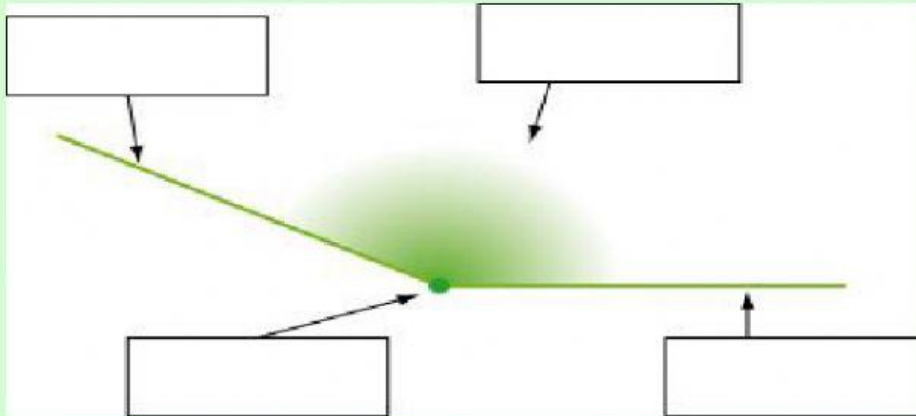
Elefante

175 kg

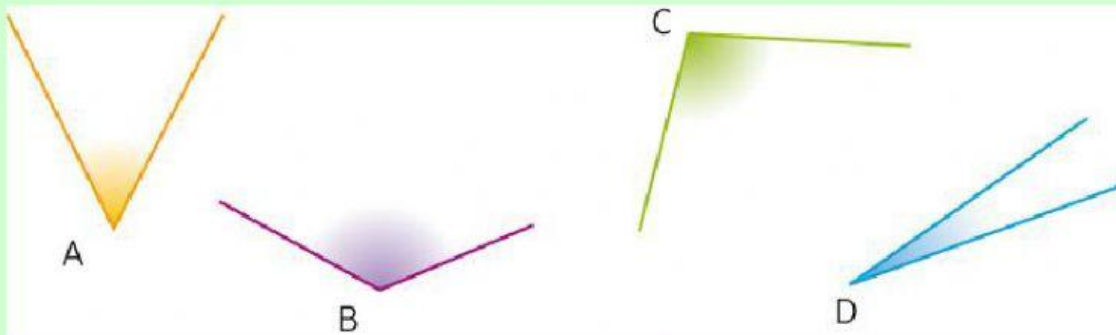
Rinoceronte

9,5 toneladas

6. Señala las partes del ángulo que está dibujado a continuación.

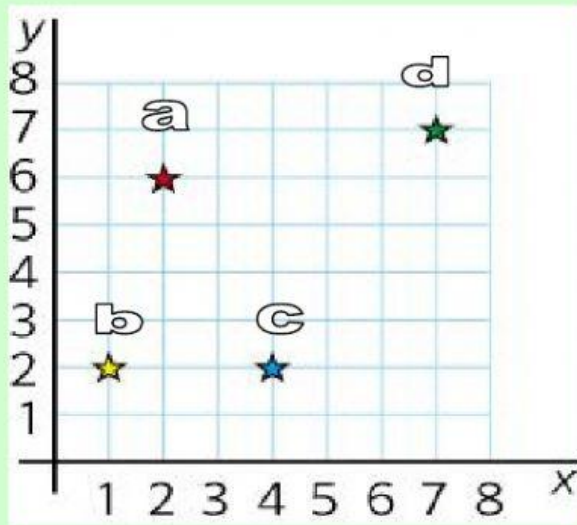


7. ¿Qué tipos de ángulos son? Escribe en la tabla si son rectos, agudos y obtusos.



A	B	C	D

8. Escribe las coordenadas de las estrellas.



a (\_\_, \_\_)

b (\_\_, \_\_)

c (\_\_, \_\_)

d (\_\_, \_\_)

9. Indica (seleccionando) cuáles de estos dibujos representa un giro.



