

PHIẾU BÀI TẬP: BẢNG TRỪ



7 Đưa thuyền vào bến cho phù hợp?



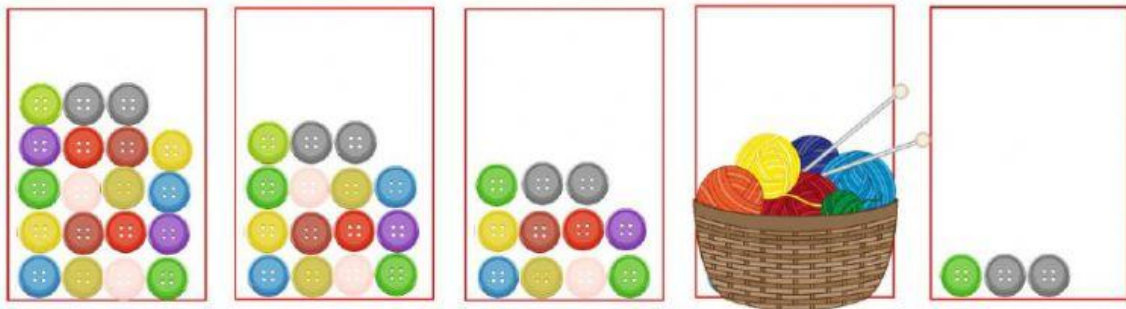
$12 - 7$ $14 - 9$ $11 - 6$ $13 - 7$



9 Nối phép tính với số thích hợp trên ghế



Hình phía sau rổ len có bao nhiêu cái nút áo?



A: 13

B: 8

C: 3

