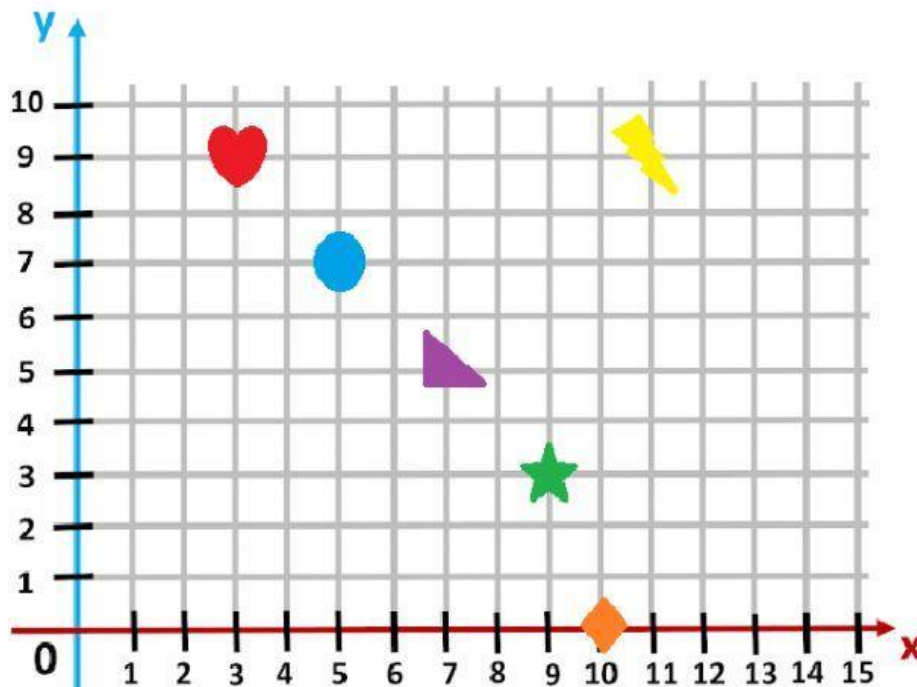




## Guía repaso para la evaluación


Nombre: \_\_\_\_\_

Observa y responde.



I. Selecciona la alternativa que corresponde (solo 1 alternativa)

1. ¿Qué elemento se encuentra en la coordenada (9,3)?




2. ¿Cuál es la coordenada donde se encuentra ?

a) (10,0)

b) (0,10)

c) (10,1)

II. Escribe con las coordenadas de los siguientes elementos (recuerda utilizar paréntesis y coma)



III. Ubica los siguientes elementos en el plano según sus coordenadas



(1,4)



(14,6)



(5,2)



(9,7)



(13,2)



(8,1)