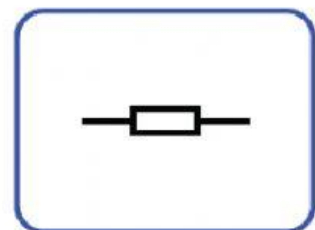
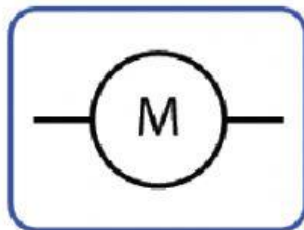
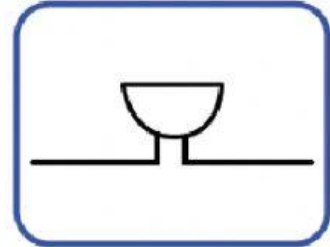
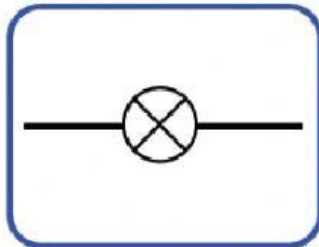
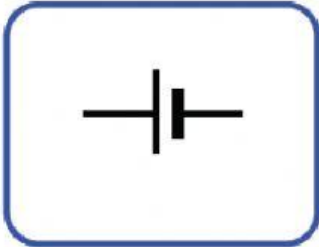
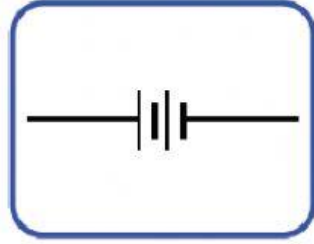
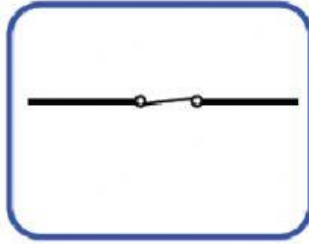
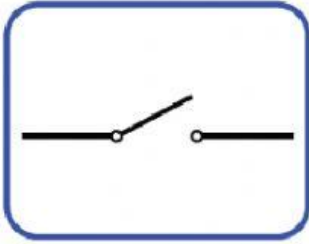


حدد أسماء رموز مكونات الدائرة التالية:



استنتج: هل ستعمل الدائرة التالية أم لا؟

الملاحظات	مخطط الدائرة الكهربائية	الدائرة الكهربائية
		(أ)
		(ب)
		(ج)
		(د)
		(هـ)
		(و)

3 أَسْمِي وَأَدُونُ مَا تَمَثَلُهُ رُمُوزُ الدَّائِرَةِ الكَهْرِبَائِيَّةِ عَلَى المَخَطِّطِ أَدْنَاهُ.

