




## EVALUACIÓN DE MATEMÁTICA

### 2° Básico

- 1 En cada uno de los siguientes vasos, debes introducir 5 cubos de hielo.



$$5 + \square + \square + \square + \square$$

$$5 \cdot \square = \square$$



- 2 Identifica el patrón de formación de cada secuencia. Y completa.



Patrón

sumar

restar

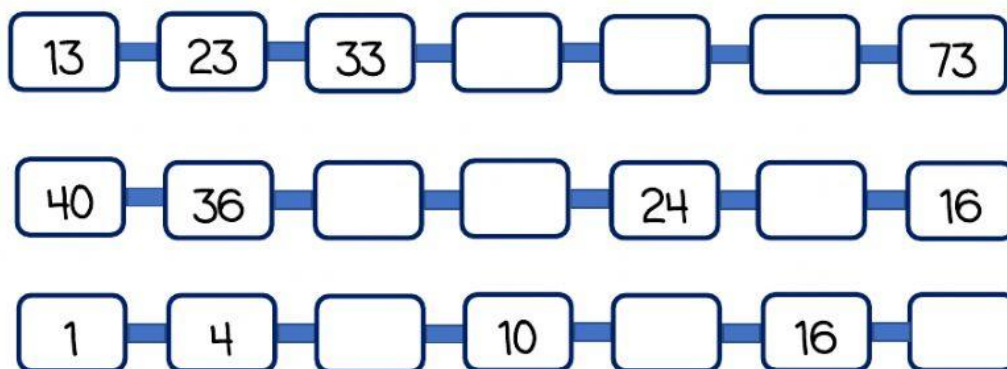


Patrón

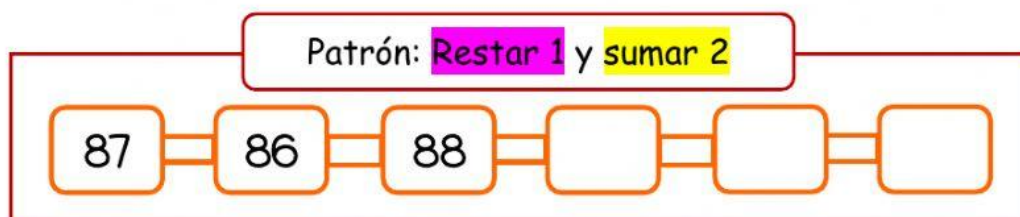
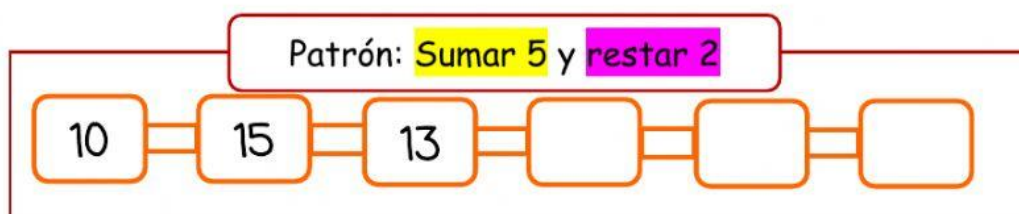
sumar

restar

3 Identifica el patrón y completa las secuencias numéricas.



4 Continúa las secuencias a partir del patrón dado.



5 Observa.



Fig.1

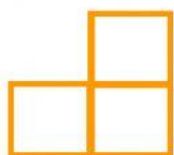


Fig.2




Fig.3




Fig.4

¿Cuántos cuadrados necesitas para armar la figura 4?

Necesito  cuadrados.