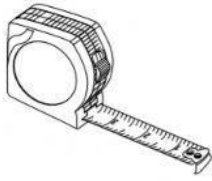


Portafolio #3

1. Elija el objeto con el que puedo medir capacidad.



2. Observo la imagen y contesto.



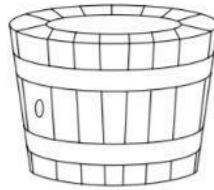
a. El recipiente de mayor capacidad: _____

b. El recipiente de menor capacidad: _____

3. Selecciones más o menos según la capacidad del objeto.



_____ de 1 litro

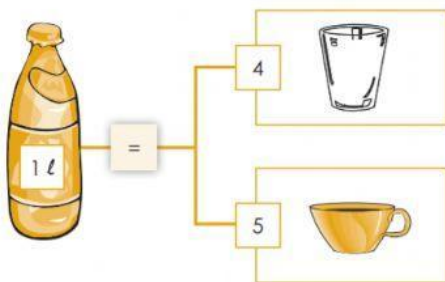


_____ de 1 litro



_____ de 1 litro

4. Observo y completo.



a. 3L es igual a _____ vasos

b. 3L es igual a _____ tazas

c. 5L es igual a _____ tazas

d. 6L es igual a _____ vasos

e. 4L es igual a _____ tazas

f. 2L es igual a _____ tazas