

Ejercicios de Fracciones

1.- Escribe la fracción que corresponde al punto representado en cada recta numérica.

P:

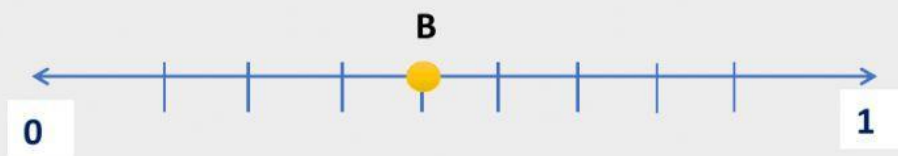
—

 A:

—

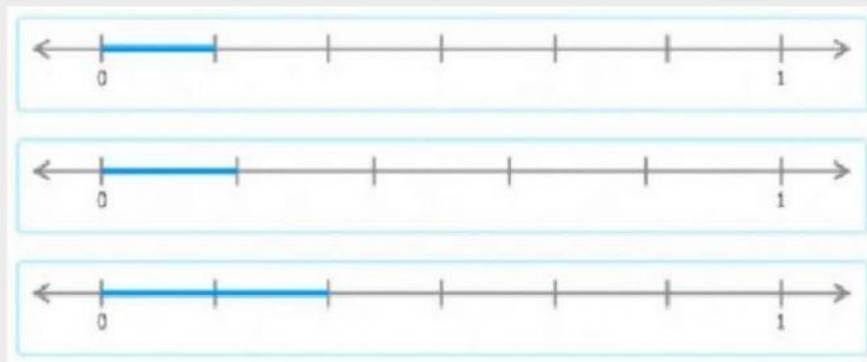
 B:

—



2.- ¿Qué recta numérica representa el segmento $\frac{1}{5}$? Marca la alternativa que corresponda.

A
B
C



3.- Completa la tabla arrastrando el valor donde corresponda.

Fracción	Recta Numérica	Se lee

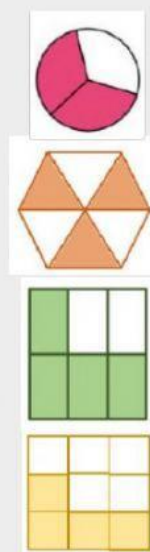
$\frac{6}{8}$
 $\frac{5}{14}$
 $\frac{4}{11}$
 $\frac{1}{2}$

$\frac{4}{14}$
 $\frac{2}{8}$
 $\frac{9}{11}$

Cuatro catorceavos
 Cuatro onceavos
 Seis octavos
 Nueve onceavos

Un medio
 Dos octavos
 Cinco catorceavos

3.- Une con una línea la fracción dibujada con su expresión en palabras.



Tres sextos

Cuatro sextos

Dos tercios

Cuatro novenos