



UNIDAD EDUCATIVA MILITAR PARTICULAR

"16 DE JUNIO"

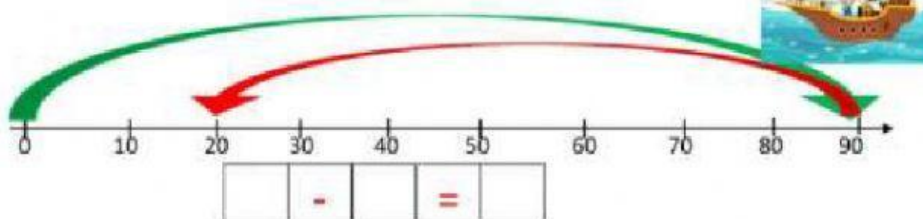
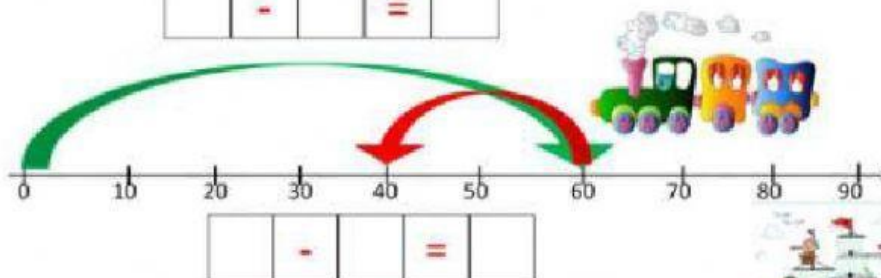
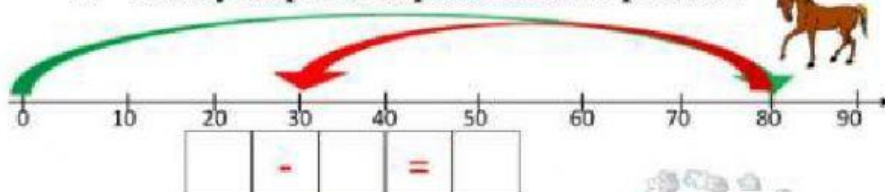
PRÁCTICAS DE MATEMÁTICA

NOMBRE:

FECHA:

GRADO:

2. Reste y ubique las respuestas a cada operación.



3. Arrastra y ubica las decenas para que obtenerla diferencia.

40	20	90	60
[]	-	[]	= 40
[]	-	[]	= 50

50	10	30	70
[]	-	[]	= 60
[]	-	[]	= 20

DOCENTE: LIC JENNY VELEPUCHA