

# POSICIONES RELATIVAS DE RECTAS Y CIRCUNFERENCIAS

1. Relaciona estas dos columnas.

POSICIÓN DE LA RECTA  
RESPECTO A LA  
CIRCUNFERENCIA

Exterior

Tangente

Secante

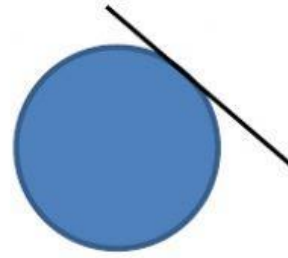
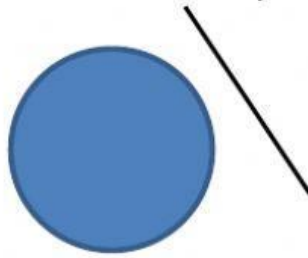
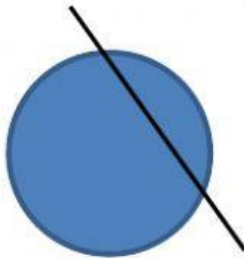
PUNTOS QUE TIENEN EN  
COMÚN LA RECTA Y LA  
CIRCUNFERENCIA

Un punto en común

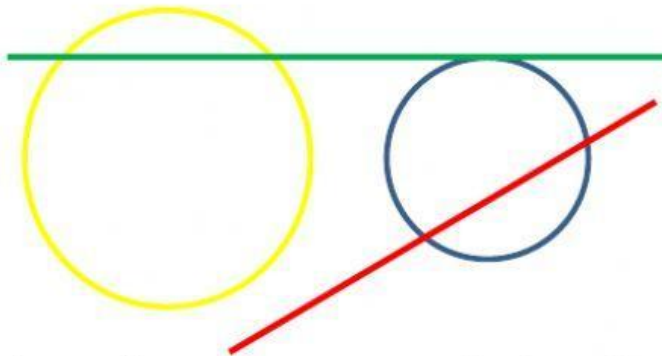
Dos puntos en común

Ningún punto en común

2. Escribe el nombre que recibe cada recta respecto a la circunferencia.



3. Observa el dibujo y completa:



La recta verde es  
la circunferencia azul.

La recta roja es  
circunferencia azul

a la circunferencia amarilla y

a

a la circunferencia amarilla y

a la