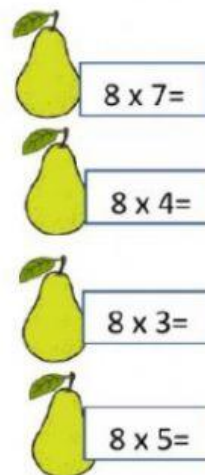
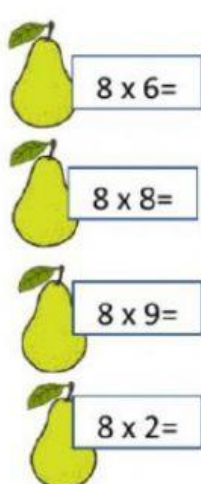


# EVALUACIÓN MENSUAL MATEMATICAS

## GRADO PRIMERO

1. Relaciona con una línea (con regla y color diferente) cada producto con su respectivo resultado.

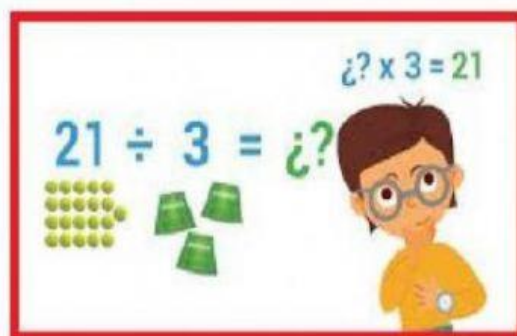


2. Realiza las siguientes multiplicaciones por factor de una cifra.

$\begin{array}{r} 132 \\ \times 9 \\ \hline \end{array}$	$\begin{array}{r} 369 \\ \times 9 \\ \hline \end{array}$	$\begin{array}{r} 154 \\ \times 9 \\ \hline \end{array}$
--	--	--

3. Resuelve las siguientes relaciones entre multiplicación y división.

- $35 \div 5 = \square$  porque  $\times \square =$
- $63 \div 7 = \square$  porque  $\times \square =$
- $48 \div 8 = \square$  porque  $\times \square =$
- $21 \div 7 = \square$  porque  $\times \square =$
- $40 \div 8 = \square$  porque  $\times \square =$



4. Realiza los siguientes repartos

#### EL CUMPLE DE ROBERTO

Roberto celebró su cumpleaños invitando a sus amigos a comer pizza, si **fueron 8** y la pizza está dividida en **24 porciones**. **¿Cuántas porciones come cada uno?**

DATOS	OPERACIÓN	SOLUCIÓN
<input type="text"/>	<input type="text"/>	<input type="text"/>

#### LA CLASE DE 3ªA

En tu clase hay 25 tijeras. Carolina decide repartirlas en 5 mesas. **¿Cuántas tijeras hay en cada mesa?**

DATOS	OPERACIÓN	SOLUCIÓN
<input type="text"/>	<input type="text"/>	<input type="text"/>

5. Escribe el resultado del siguiente cálculo mental con divisiones

$25 \div 5 = \underline{\hspace{2cm}}$

$12 \div 4 = \underline{\hspace{2cm}}$

$72 \div 9 = \underline{\hspace{2cm}}$

$24 \div 6 = \underline{\hspace{2cm}}$

$81 \div 9 = \underline{\hspace{2cm}}$

$30 \div 5 = \underline{\hspace{2cm}}$

$16 \div 2 = \underline{\hspace{2cm}}$

$48 \div 8 = \underline{\hspace{2cm}}$

$24 \div 3 = \underline{\hspace{2cm}}$

$49 \div 7 = \underline{\hspace{2cm}}$