

TIPOS DE PALABRAS



SUSTANTIVOS


ADJETIVOS

VERBOS



PROBLEMAS DE HALLOWEEN

Haz los siguientes problemas, suma los resultados y sabras quién ha conseguido más caramelos, si Manolito disfrazado de momia o Julieta disfrazada de bruja.



Hemos comprado 4 rollos de vendas con 20 metros cada uno. ¿Cuántos metros hemos comprado en total?


_____ metros.

Si el metro ha costado a 10 céntimos. ¿Cuántos euros han costado los 4 rollos?

_____ euros.

De todos los metros nos han sobrado la mitad. ¿Cuántos metros de vendas hemos gastado?

_____ metros.



Dieciocho niñas de la clase nos hemos disfrazado de brujas. Las escobas han costaron 3€. ¿Cuánto hemos gastado?

_____ euros.

Hemos pagado con un billete de 50€ y otro de 20€. ¿Cuánto dinero nos han devuelto?

_____ euros.

Hemos empezado a ir por caramelos a las 18:30 y hemos acabado a las 20:00. ¿Cuántos minutos hemos estado?


_____ minutos.

Yo he conseguido...



_____ caramelos.

Y yo he conseguido...



_____ caramelos.



¿Quién ha conseguido más caramelos?