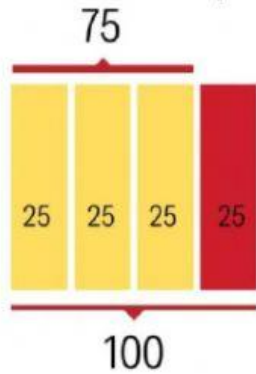


Fracción de un número


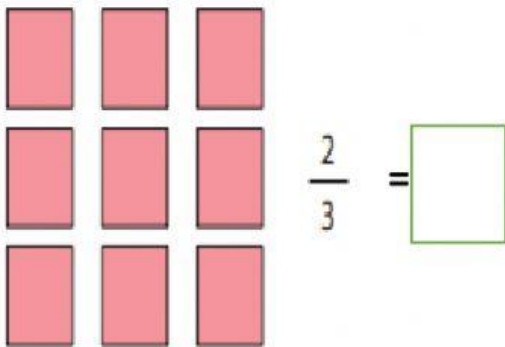
$$\frac{3}{4} \text{ de } 100 = \frac{3 \times 100}{4} = 75$$



La fracción de un número se calcula multiplicando el entero por el numerador y se divide por el denominador.



Observa y escribe la cantidad de figuras que representa cada una, guíate con el ejemplo anterior.



Resuelve.

• $\frac{3}{4}$ de 32 =

• $\frac{2}{3}$ de 90 =

• $\frac{5}{8}$ de 240 =

• $\frac{4}{5}$ de 150 =

• $\frac{4}{6}$ de 180 =

• $\frac{4}{7}$ de 210 =

Escribe los datos que faltan en la tabla.

Los deportes más populares en la India son el *cricket* y el *hockey* sobre pasto, aunque también se practican varios de los reconocidos en todo el mundo.

Deporte	Duración	Fracción que se juega	Duración
Fútbol	90 minutos	$\frac{1}{2}$	45
Béisbol	9 entradas	$\frac{2}{3}$	
Baloncesto	4 períodos	$\frac{3}{4}$	3
Box	10 asaltos	$\frac{1}{5}$	2
Cricket	6 horas	$\frac{1}{3}$	

¡Muy bien!



LANCHE_DAFER