

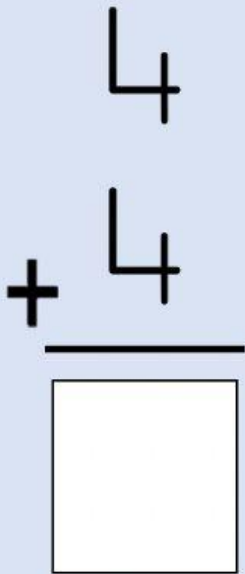





Arrastra y selecciona la cantidad correcta de rayitas de la operación, escribe el resultado con números.




Arrastra y selecciona la cantidad correcta de rayitas de la operación, escribe el resultado con números.

$$\begin{array}{r} 5 \\ + 5 \\ \hline \square \end{array}$$






Arrastra y selecciona la cantidad correcta de rayitas de la operación, escribe el resultado con números.

$$\begin{array}{r} 7 \\ + 5 \\ \hline \end{array}$$



Arrastra y selecciona la cantidad correcta de rayitas de la operación, escribe el resultado con números.

$$\begin{array}{r} 8 \\ + 7 \\ \hline \square \end{array}$$



Arrastra y selecciona la cantidad correcta de rayitas de la operación, escribe el resultado con números.

10	<div></div>	<div></div>	<div></div>
+ 8	<div></div>	<div></div>	<div></div>
<div></div>			