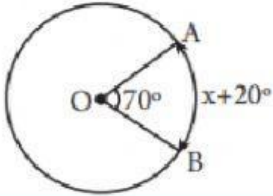


ÁNGULOS EN LA CIRCUNFERENCIA

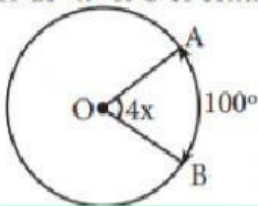
RELACIONA CORRECTAMENTE:

Calcula el valor de «x» si O es centro.



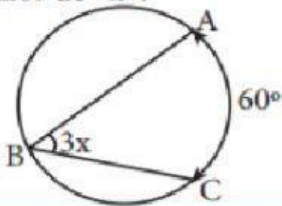
65°

Calcula el valor de «x» si O es centro.



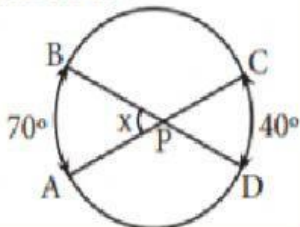
30°

Calcula el valor de «x».



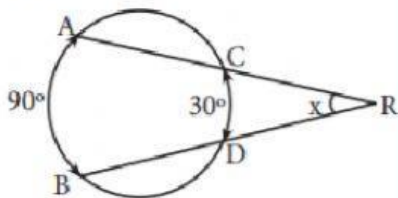
50°

Calcula el valor de «x».



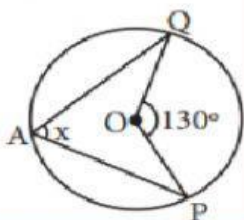
25°

Calcula el valor de «x».



55°

Calcula el valor de «x».



10°