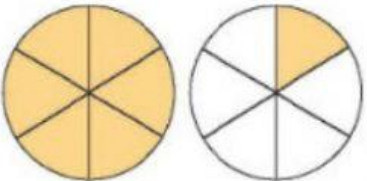
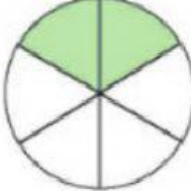
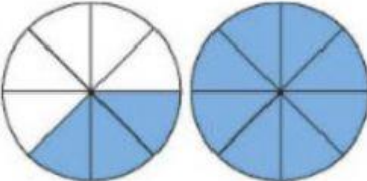


Clasifique las siguientes fracciones en propias, impropias y mixtas, marcando la casilla según corresponda.

<p>Propia</p> <p>Impropia</p> <p>Mixta</p>	$\frac{1}{4}$	<p>Propia</p> <p>Impropia</p> <p>Mixta</p>	$\frac{4}{3}$
<p>Propia</p> <p>Impropia</p> <p>Mixta</p>		<p>Propia</p> <p>Impropia</p> <p>Mixta</p>	$1\frac{3}{5}$
<p>Propia</p> <p>Impropia</p> <p>Mixta</p>	$\frac{9}{6}$	<p>Propia</p> <p>Impropia</p> <p>Mixta</p>	
<p>Propia</p> <p>Impropia</p> <p>Mixta</p>	$\frac{3}{5}$	<p>Propia</p> <p>Impropia</p> <p>Mixta</p>	$1\frac{3}{5}$
<p>Propia</p> <p>Impropia</p> <p>Mixta</p>		<p>Propia</p> <p>Impropia</p> <p>Mixta</p>	$\frac{6}{8}$

