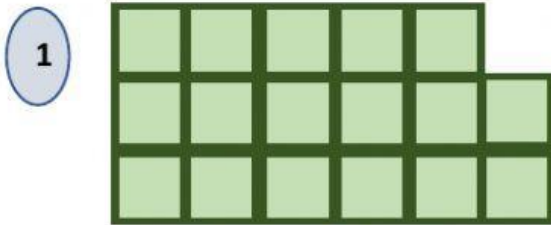


**EL ÁREA DE UN POLÍGONO**


😊 **Observa las figuras y haya el área.**

**Ten en cuenta que cada cuadradito mide 1 centímetro cuadrado.**

**a) ¿Cuánto mide el área de cada figura?**




A =  cm<sup>2</sup>



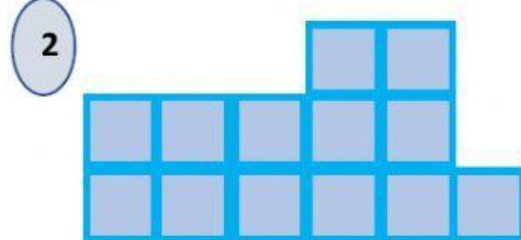
A =  cm<sup>2</sup>

**¿Cuál de las dos figuras tiene MAYOR ÁREA?**

**b) ¿Cuánto mide el área de cada figura?**




A =  cm<sup>2</sup>



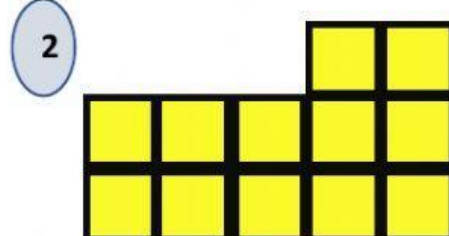
A =  cm<sup>2</sup>

**¿Cuál de las dos figuras tiene MENOR ÁREA?**

**c) ¿Cuánto mide el área de cada figura?**



A =  cm<sup>2</sup>



A =  cm<sup>2</sup>

**¿Cuál de las dos figuras tiene MENOR ÁREA?**