




COLEGIO SUPERIOR AMERICANO  
"Formación de Personas de Excelente Calidad Humana"  
QUIZ DE SIMETRÍA, TRASLACION Y ROTACION

1. Señala si se trata de una simetría, de una traslación o de una rotación.



SIMETRÍA

ROTACIÓN


TRASLACIÓN



SIMETRÍA

ROTACIÓN

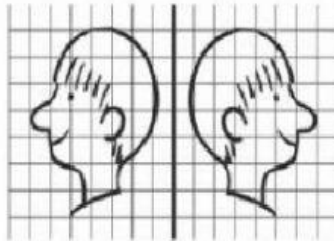
TRASLACIÓN



SIMETRÍA

ROTACIÓN

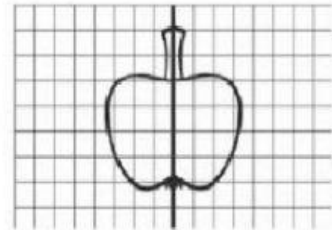
TRASLACIÓN



SIMETRÍA

ROTACIÓN

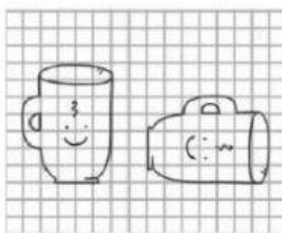
TRASLACIÓN



SIMETRÍA

ROTACIÓN


TRASLACIÓN



SIMETRÍA

ROTACIÓN

TRASLACIÓN



SIMETRÍA

ROTACIÓN

TRASLACIÓN



SIMETRÍA

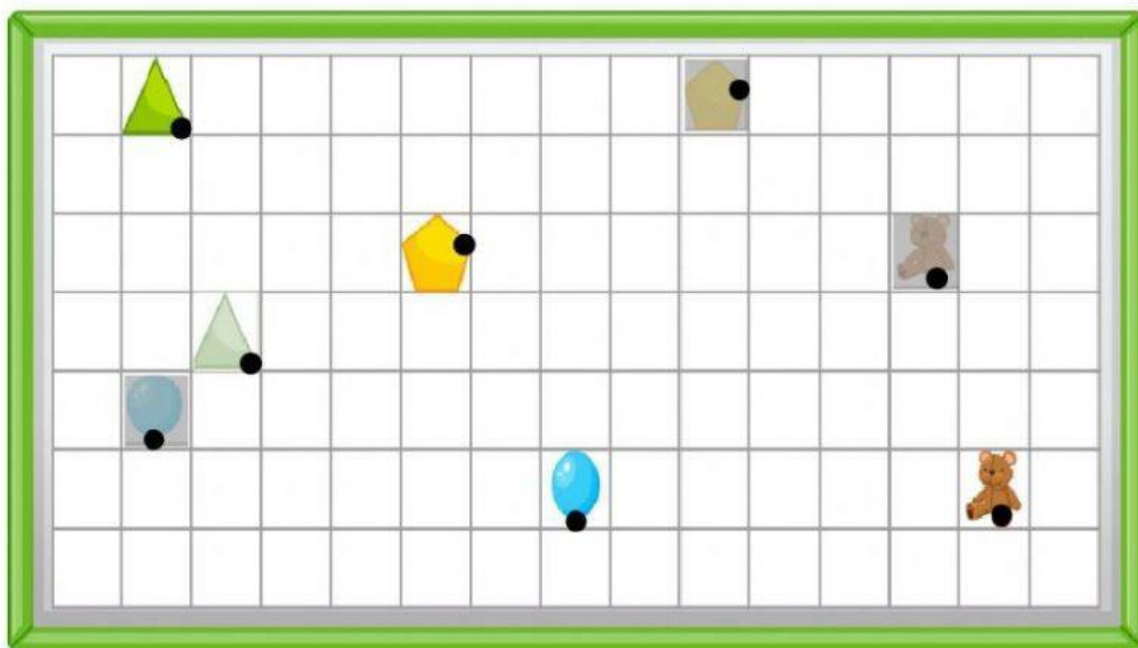
ROTACIÓN

TRASLACIÓN



**COLEGIO SUPERIOR AMERICANO**  
**"Formación de Personas de Excelente Calidad Humana"**  
**QUIZ DE SIMETRIA, TRASLACION Y ROTACION**

2. Observa el plano y marca si las afirmaciones son verdaderas o falsas. Recuerda: la figura más clara representa la posición inicial y la más oscura, la posición final.



5 unidades arriba y 3 a la derecha.

FALSO

VERDADERO



2 unidades abajo y 4 a la izquierda.

FALSO

VERDADERO



1 unidad a la izquierda y 3 unidades arriba.

FALSO

VERDADERO



1 unidad a la izquierda y 3 unidades arriba.

FALSO

VERDADERO