


Họ và tên:

Lớp:

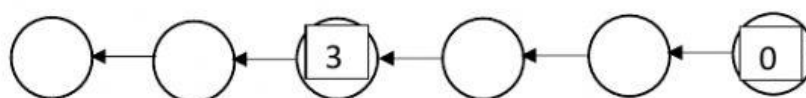
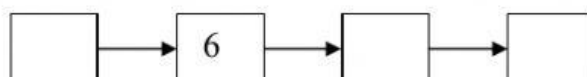
Phiếu bài tập cuối tuần 6

Môn: Toán




Bài 1: Điền số:



Bài 2: Điền số :



Bài 3: Nối theo mẫu:



Bài 4: Điền số:

$4 > \square > 2$

$6 < \square < 8$

$3 < \square < 5$

$7 > \square > 5$

$8 = \square$

$5 = \square$

Bài 5: Điền > < = :

$5 \dots 7$

$4 \dots 7$

$5 \dots 4 \dots 3$

$6 \dots 9$

$8 \dots 4$

$7 \dots 8 \dots 9$

$3 \dots 3$

$2 \dots 0$

$5 \dots 5 \dots 7$

Bài 6: Điền th hoặc tr



Nhàê



.....ợ nề



quải

Bài 7: Điền vần ua, ưa cho phù hợp



Cà ch.....



c sỏ



m.... ba lê

Bài 8: Nối

Bà chia quà

trà.

Bố pha

cho bé và chị

Bé

mở cửa sỏ.