

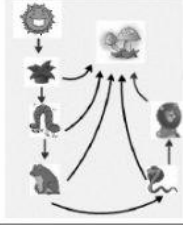

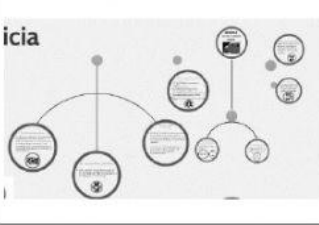
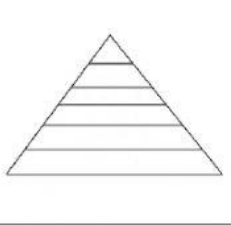
CADENAS ALIMENTICIAS TERCERO

NOMBRE: _____

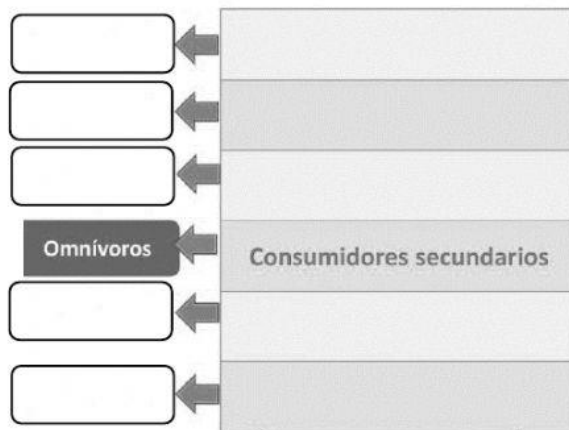
1. Lee las siguientes preguntas y responde

- a. Las cadenas alimenticias también son llamadas _____
- b. Las cadenas alimenticias tienen ____ eslabones
- c. La base de todas las cadenas alimenticias son los _____
- d. Las cadenas alimenticias nos sirven para _____

2. Selecciona con una **X** las formas correctas en las que se representan las cadenas alimenticias

3. Completa el esquema



4. escribe frente a cada animal a que eslabón pertenece

- a. osa panda _____
- b. león _____
- c. cerdo _____
- d. mosca _____
- e. planta _____
- f. pulpo _____

5. escribe frente a cada palabra su definición

- a. herbívoros: _____
- b. descomponedores: _____
- c. omnívoros: _____
- d. carnívoros: _____
- e. depredadores naturales: _____