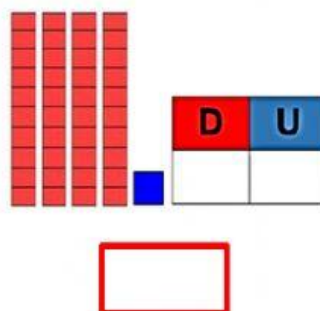
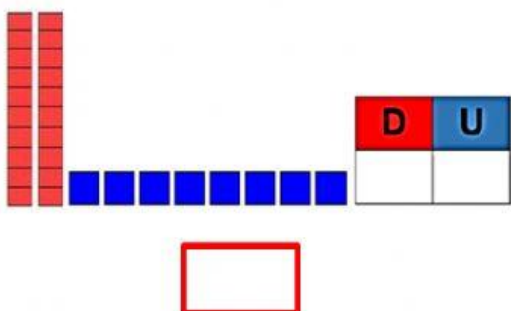
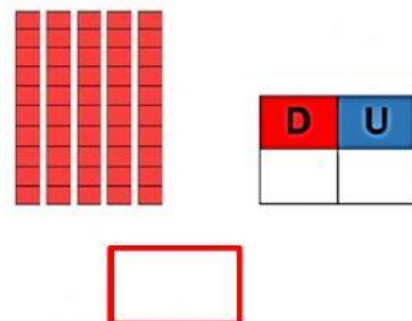
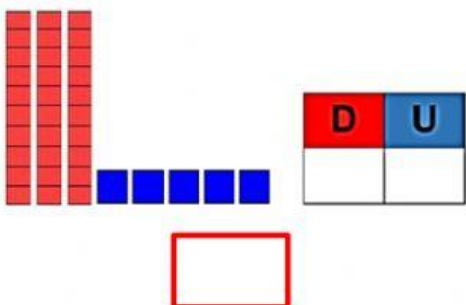
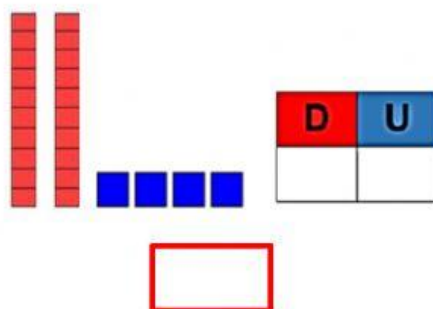
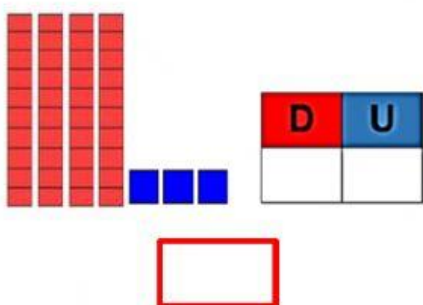
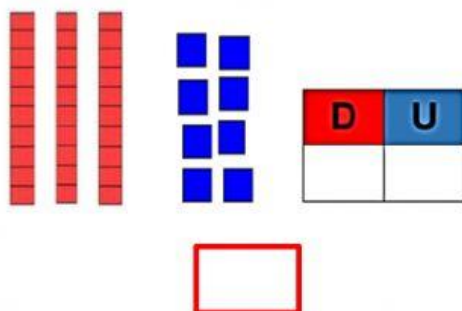
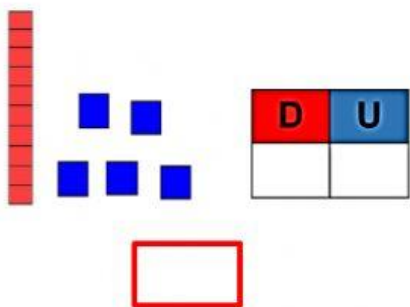


CONTAMOS HASTA 50

1.- Escribe el número que corresponde:



2.- Completen los casilleros del tablero con los números que faltan.

1		3		5			8		10
11				15		17		19	
21		23			26			29	
31		33		35			38		40
	42		44			47		49	

3.- Escribe cómo se leen los siguientes números.

a) 10 se lee _____

b) 20 se lee _____

c) 18 se lee _____

d) 37 se lee _____

e) 49 se lee _____

f) 50 se lee _____

4.- Escribe el antecesor y sucesor de los siguientes números.

40

20

30

5.- Ordenen los números en forma ascendente (de menor a mayor).

46, 15, 39, 27

6.- Ordena los números en forma descendente (de mayor a menor).

30, 50, 10, 40