


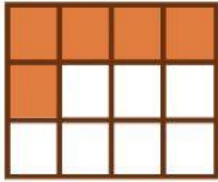


# NICOLÁS Y LA FÁBRICA DE DULCES



Nicolás y sus amigos los monstruos prepararon unas chocolatinas para ayudar a su amiga María con el estudio de las fracciones. Sin embargo, un fuerte viento generó un terrible desorden. Nicolás y sus amigos necesitan de tu ayuda.

PARA AYUDARLOS DEBES COLOCAR CADA NOMBRE EN SU LUGAR CORRESPONDIENTE



Siete medios




Tres séptimos

Cinco doceavos

Un medio

Seis novenos

Quince veinticuatroavos



# REPARTIENDO LOS DULCES

Los amigos de Nicolás le informaron todo acerca de la producción de dulces y la distribución que se hizo, sin embargo, Nicolás debe representar la información numéricamente.



Ayuda a Nicolás escribiendo la fracción que se menciona en cada aviso.



De los 600 dulces de chispitas, 203 se donaron a los niños.



—



De los 25 dulces rellenos de chocolate, se vendieron 6.



De los 130 dulces con relleno de fresa, 73 se transportaron a la dulcería de Jenny.



—



ESCRIBIENDO COMO SE  
LEA UNA FRACCIÓN



AYUDA A NICOLÁS Y SUS AMIGOS A ESCRIBIR CÓMO SE LEEN  
LAS SIGUIENTES FRACCIONES



$$\frac{13}{3}$$



$$\frac{11}{23}$$



Ayuda a María la amiga de Nicolás  
a organizar las siguientes  
fracciones de menor a mayor.

$$\frac{9}{5}$$

$$\frac{6}{5}$$


$$\frac{9}{11}$$

$$\frac{3}{5}$$

&lt;

&lt;

&lt;



CADA LOGRO COMIENZA CON LA  
DECISION DE INTENTARLO.

*Gail Devers*

BIEN HECHO.

