







Sistema circulatorio segundo

Nombre: _____

1. El sistema circulatorio es el encargado de transportar el oxígeno y los nutrientes a las células y elimina los desechos de dos maneras escríbelas
 - a. _____
 - b. _____
2. Escribe cuales son los vasos sanguíneos
 - a. _____
 - b. _____
 - c. _____
3. Marca con una x según corresponda

	Arterias	Venas	Capilares
Es el mensajero que intercambia los oxígeno y nutrientes por los desechos			
Lleva la sangre con oxígenos y nutrientes			
Lleva la sangre con desechos			

4. Observa los dibujos y escribe por que tuvo que pasar la sangre para realizar el siguiente recorrido

5. La sangre está conformada por partículas que nos ayudan a proteger nuestro cuerpo lee las siguientes situaciones y escribe cual partícula ayudaría a cada situación
 - a. Luna se raspo la rodilla y se le formo una pequeña costra ¿quién hizo la costra? _____
 - b. Camilo tiene el virus de la gripa ¿quién puede combatir este virus? _____
 - c. Ellas son las encargadas de llevar el oxígeno desde los pulmones a todo el cuerpo _____
6. Escribe las partes del corazón

