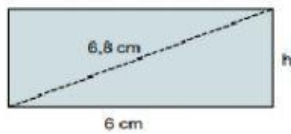
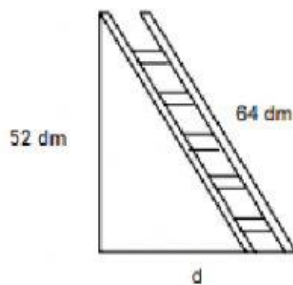


PRACTICA: TEOREMA DE PITAGORAS

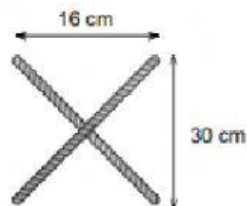
Calcula la altura de un rectángulo cuya diagonal mide 6,8 cm y la base 6 cm.



¿A qué distancia de la pared habrá que colocar el pie de esta escalera para que la parte superior se apoye en la pared a una altura de 52 dm?



Calcula los centímetros de cuerda que se necesitan para formar la letra X de las siguientes dimensiones.



Un niño está encumbrando un volantín, como muestra la figura. Considerando las medidas dadas, determina a qué altura está el volantín.

