



LICEO COOPERATIVO CAMPESTRE

Luz, integridad y sabiduría

Asignatura: GEOMETRÍA

Grado: PRIMERO

Trimestre: III


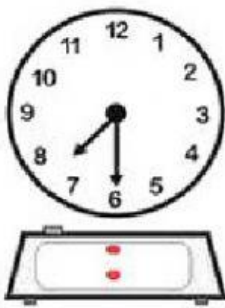


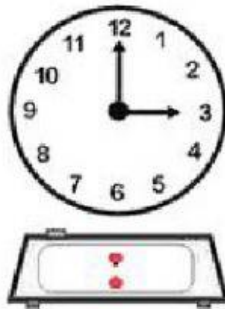
NOTA

Estudiante:


Docente: YENNY CARVAJAL

Fecha:


1- ¿Qué hora es? Fíjate en el reloj de agujas y escribe la hora en el reloj digital.




2- Lee los relojes analógicos y digitaes y une los que tengan la misma hora.




3:30



2:00



11:30



8:00