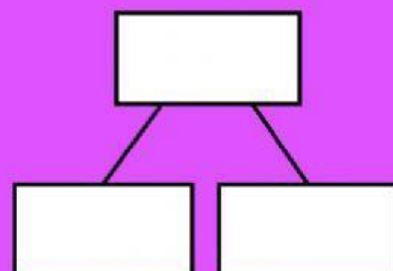
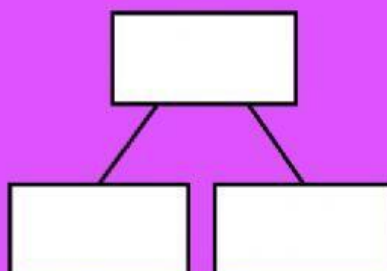


En el garaje del supermercado solo hay coches y motos, 54 vehículos en total.
De ellos 16 son motos.
¿Cuántos coches hay en el garaje?



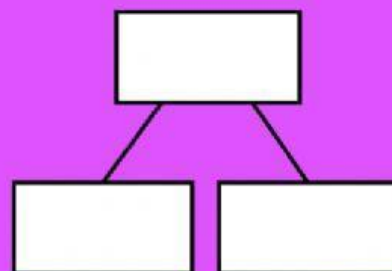
OPERACIÓN

Hoy en el garaje del super hay aparcados 28 coches, 13 motos y no hay más vehículos.
¿Cuántos vehículos hay en total en el garaje?



OPERACIÓN

En el garaje del supermercado solo hay coches y motos, 62 vehículos en total.
De ellos 39 son coches.
¿Cuántas motos hay en el garaje?



OPERACIÓN