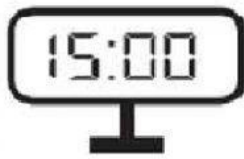


## Prueba unidades de tiempo 4° básicos

1.- Marca si la hora es AM o PM




AM	PM
----	----



AM	PM
----	----



AM	PM
----	----



AM	PM
----	----



AM	PM
----	----



AM	PM
----	----

2.- Une cada reloj digital con su reloj Análogo:



3.- Une con una línea las equivalencias de tiempo según corresponda.

1 año	100 años
1 milenio	7 días
3 días	10 años
1 década	24 horas
1 minuto	1.000 años
1 semana	365 días
1 siglo	72 horas
1 día	60 segundos


4.- Lee y resuelve cada situación.

Anita empezó a cocinar a las 4:25 P.M. Le tomó una hora y quince minutos terminar el postre que hizo.


¿A qué hora terminó Anita el postre?

:

Hora de inicio



Hora de término



?


José empezó a hacer galletas a las 9:00 A.M. Se demoró diez minutos en hacer la mezcla y 35 minutos en hornearlas.

Marca en los relojes:


¿A qué hora José tuvo listas las galletas?

:

Hora de inicio



Hora de término



Francisca y su familia fueron al cine a ver una película. Si la película comenzó a las 18:30 hrs y duró 1 hora con 25 minutos.

:

¿Cuántos minutos duró la película?

Un Bus sale del terminal a las 07:00 y llega a la ciudad de Valdivia 8 horas y 30 minutos más tarde.

¿A qué hora llegó el bus a Valdivia?

 : 

Para viajar de Concepción a Santiago, Carlos puede usar dos medios de transporte.



55 min



6 h y 30 min

¿Cuántos minutos dura el viaje si lo hace en bus?

 : 

¿Cuántos minutos más se demora en bus que en avión?

 : 

5.- Completa arrastrando los conceptos según corresponda.

Completa los espacios en blanco con la unidad de medida de tiempo que corresponde en cada situación. *Explica tu respuesta.*

Me demoré 2 ..... en tomar un vaso de leche.

Hoy dormí 7 ..... en total.

La feria de libros usados de mi comuna duró 5 .....

Logré hacer 100 abdominales en 6 .....

días

horas

minutos

segundos

6.- Lee y completa según corresponda.

Completa los espacios en blanco.

**A** Camila dedica diariamente 40 minutos a la lectura.

Hoy leerá desde las 17:15 h hasta las  :

**B** La duración de un partido de fútbol es de 90 minutos, más 15 minutos de descanso entre el primer y segundo tiempo.

El partido comenzó a las 16:15 h y terminará a las  :

**C** Esteban paseó su perra el domingo desde las 18:10 h hasta las 19:05 h.

El paseo duró  :  minutos.

**D** La clase de aeróbica en un gimnasio dura 45 minutos.

Si comienza a las 19:30 h, termina a las  :  h.