

**Actividad N° 38**

**Desarrollo embrionario y fetal humano**

Curso:  Nombres y Apellidos:

**I. Identifique los conceptos a los que se refiere: (Completar)**

a) Se desarrolla desde la tercera y la octava semana, esta etapa se denomina también organogénesis.

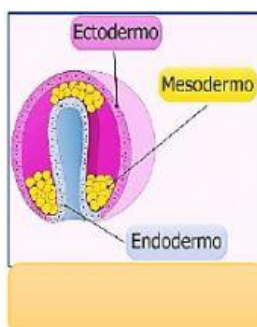
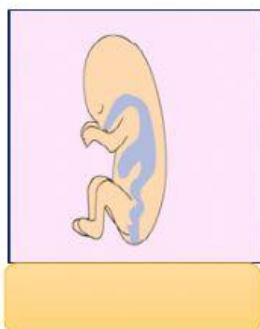
b) Periodo que se caracteriza por la maduración de los tejidos órganos y el rápido crecimiento del cuerpo

c) Los riñones comienzan a secretar orina y el hígado empieza a producir glóbulos rojos.

d) El feto en este mes adquiere mayor movilidad y comienza a dar patadas.

e) En este periodo se desarrollan las tres capas germinales: endodermo, mesodermo y ectodermo.

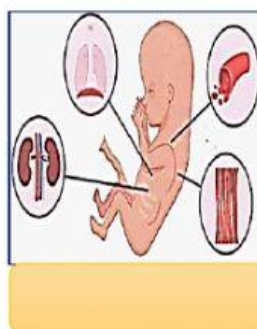
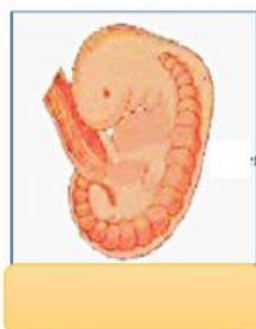
**II. Identifique el desarrollo embrionario y fetal: (Arrastrar y soltar)**



Endodermo

Periodo preembrionario

Segundo mes



Primer mes

Periodo fetal

Tercer mes