



*República de Honduras*  
*Secretaría de Educación*

**Prueba Fin de Grado 2014**

# Matemáticas

**1<sup>er</sup>**  
Grado

Nombre del Centro Educativo

Nombre del Alumno/Alumna

Sección

Edad

Género

- ☐ Masculino  
☐ Femenino

Jornada

- ☐ Mañana  
☐ Tarde  
☐ Extendida

Departamento

Municipio


Lugar





**INSTRUCCIONES**

Este **cuadernillo** contiene ejercicios de **Matemáticas**. Cada ejercicio tiene cuatro posibles respuestas. Usted deberá escoger la respuesta correcta. Recuerde que debe escoger una sola respuesta. Rellene completamente el círculo de la respuesta correcta.

**1 ¿Qué forma tienen las llantas del tren?**

- ☐ A. Círculo
- ☐ B. Cuadrado
- ☐ C. Triángulo
- ☐ D. Rectángulo

**2 ¿Cuál es más grueso?**

- ☐ A. 
- ☐ B. 
- ☐ C. 
- ☐ D. 

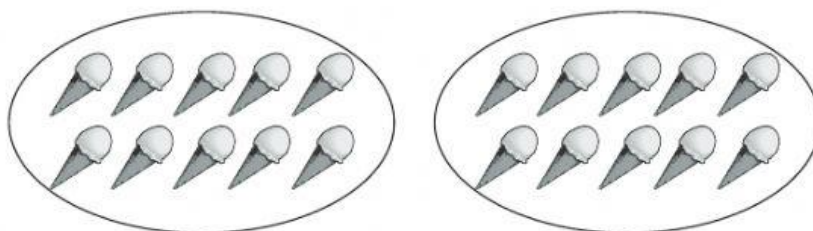
**3 ¿Dónde están ubicadas las frutas?**

- ☐ A. Al lado izquierdo de la mesa
- ☐ B. Al lado derecho de la mesa
- ☐ C. Debajo de la mesa
- ☐ D. Sobre la mesa



4 ¿Cuántos conos hay en la figura?

- ☐ A. 10
- ☐ B. 15
- ☐ C. 20
- ☐ D. 25



5 ¿Cómo se lee el número 84?

- ☐ A. Cuarenta y ocho
- ☐ B. Ochenta y cuatro
- ☐ C. Ochenta y siete
- ☐ D. Cuarenta y seis

6 ¿Cómo se escribe el número noventa?

- ☐ A. 90
- ☐ B. 70
- ☐ C. 50
- ☐ D. 30

7 ¿Cómo se lee el número 12?

- ☐ A. Once
- ☐ B. Doce
- ☐ C. Trece
- ☐ D. Catorce

8

**Contando de dos en dos, ¿qué número hace falta en el cuadro vacío?**

- ☐ A. 57
- ☐ B. 55
- ☐ C. 54
- ☐ D. 53

50	52		56	58
----	----	--	----	----

9

**¿Qué orden llevan los números?**

- ☐ A. 1 en 1
- ☐ B. 2 en 2
- ☐ C. 5 en 5
- ☐ D. 10 en 10



10

**¿Cuánto es  $8 + 7$ ?**

- ☐ A. 16
- ☐ B. 15
- ☐ C. 14
- ☐ D. 13

11

**¿Cuánto es  $11 + 8$ ?**

- ☐ A. 19
- ☐ B. 18
- ☐ C. 17
- ☐ D. 16

12 Mario sembró 12 árboles y Carlos sembró 7. ¿Cuántos árboles sembraron en total?

- ☐ A. 14
- ☐ B. 15
- ☐ C. 17
- ☐ D. 19

13 En la granja hay 4 gallinas y 12 pollitos. ¿Cuántas aves hay en total?

- ☐ A. 17
- ☐ B. 16
- ☐ C. 15
- ☐ D. 12

14 ¿Cual es el resultado de  $19-3$ ?

- ☐ A. 14
- ☐ B. 15
- ☐ C. 16
- ☐ D. 17

15 ¿Cuál es el resultado de  $16-12$ ?

- ☐ A. 14
- ☐ B. 12
- ☐ C. 5
- ☐ D. 4

16 Lucía tenía 6 manzanas en la canasta y regaló 2 a sus amigas. ¿Cuántas le quedaron?





- ☐ A. 8
- ☐ B. 7
- ☐ C. 4
- ☐ D. 2

17 Marcos tiene 17 mables. Pierde 6. ¿Cuántos mables le quedan?

- ☐ A. 23
- ☐ B. 13
- ☐ C. 11
- ☐ D. 10



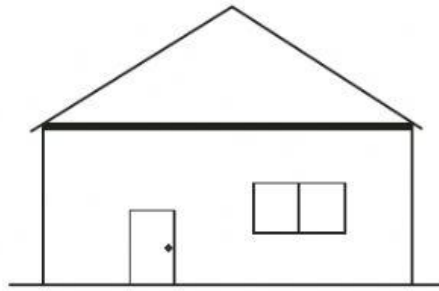
18 ¿Cuál figura está formada por líneas mixtas?

- ☐ A. 
- ☐ B. 
- ☐ C. 
- ☐ D. 



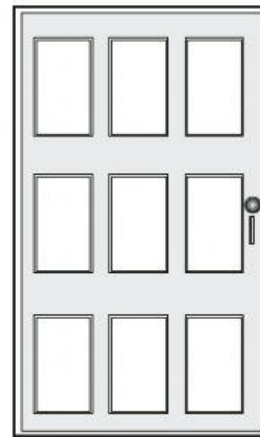
19 En el dibujo, ¿Cómo se llama a la línea gruesa?

- ☐ A. Línea horizontal
- ☐ B. Línea vertical
- ☐ C. Línea inclinada
- ☐ D. Línea mixta



20 ¿Qué forma tiene la puerta?

- ☐ A. Cuadrado
- ☐ B. Triángulo
- ☐ C. Rectángulo
- ☐ D. Círculo




21 ¿A qué figura geométrica se parece el signo de tránsito?

- ☐ A. Cuadrado
- ☐ B. Triángulo
- ☐ C. Rectángulo
- ☐ D. Círculo



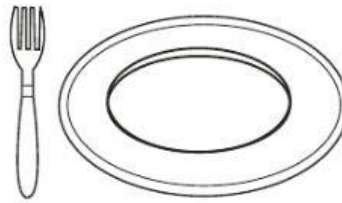
22 ¿Dónde están las naranjas de la caja?

- ☐ A. En el exterior
- ☐ B. En el interior
- ☐ C. En el borde
- ☐ D. en el ancho



23 ¿Dónde está el tenedor?

- ☐ A. Frontera
- ☐ B. Borde
- ☐ C. Exterior
- ☐ D. Interior



24 ¿Cuánto dinero hay?

- ☐ A. 35 centavos
- ☐ B. 55 centavos
- ☐ C. 65 centavos
- ☐ D. 75 centavos



25 ¿A cuántos billetes de L.2 es igual un billete de L.10?

- ☐ A. 2
- ☐ B. 4
- ☐ C. 5
- ☐ D. 6



- 26 Fui a la pulpería y me sobró la siguiente colección de dinero.  
¿Cuánto dinero me sobró?

- ☐ A. L10 C37  
☐ B. L11 C30  
☐ C. L12 C35  
☐ D. L12 C36



- 27 Hace un mes celebré mi cumpleaños, si estamos en junio, ¿en qué mes cumplí años?

- ☐ A. Julio  
☐ B. Junio  
☐ C. Mayo  
☐ D. Abril

- 28 Iré al cumpleaños de Sandra el domingo, un día antes iré al río.  
¿Qué día iré al río?

- ☐ A. Domingo  
☐ B. Sábado  
☐ C. Martes  
☐ D. Lunes